
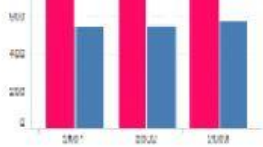





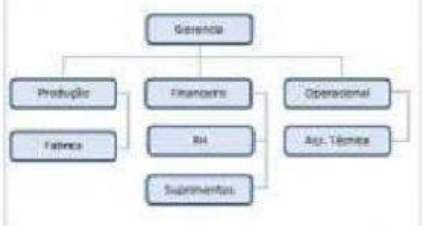
	Matemática – Profª. Ana Lucia Maia		
	Atividade: Contínua		Data: 12/11/2021
	Nome		6º ano

1. Arraste e cole a função ao tipo de gráfico mais adequado:

Indicar porcentagem de um assunto	Indicar evolução de um assunto	Indicar quantidades de um assunto
-----------------------------------	--------------------------------	-----------------------------------

2. Arraste e cole o nome dado aos seguintes tipos de imagens:

Organograma	Pictograma
-------------	------------

3. Uma agência de viagens catalogou a quantidade de turistas que recebeu no último ano aqui no Brasil. Analise o gráfico e responda as questões:



a. De qual País, veio a maior quantidade de turistas?

b. De qual País, veio a menor quantidade de turistas?
c. Qual a diferença de turistas entre Argentina e Paraguai?

4. Assinale a resposta correta em cada teste. (Faça os cálculos em seu caderno).

a. Um time de futebol de salão possui 5 jogadores titulares com as idades de: 15; 18; 19; 20; 23 anos. Qual a média das idades desses jogadores?							
	17 anos		18 anos		19 anos		20 anos

b. As temperaturas máximas na cidade de Goiânia foram mensuradas e anotadas durante uma semana do mês de junho conforme a lista seguinte:							
Domingo → 28 °C		Segunda-feira → 30 °C		Terça-feira → 29 °C		Quarta-feira → 31 °C	
Quinta-feira → 32 °C		Sexta-feira → 33 °C		Sábado → 34 °C			
Qual a média da temperatura desta semana em Goiânia?							
	29°C		31°C		28,5°C		29,2°C

c. Ao jogar um dado, qual a probabilidade de obtermos um número ímpar voltado para cima?							
	15%		25%		50%		70%

d. Um saco contém 8 bolas idênticas, mas com cores diferentes: três bolas azuis, quatro vermelhas e uma amarela. Retira-se ao acaso uma bola. Qual a probabilidade da bola retirada ser azul?							
	30%		40%		37,5%		42,5%

e. Ao jogar um dado, qual a probabilidade de obtermos um número menor que três, voltado para cima?							
	2/6		3/6		4/6		1/6

