



1.-Complete la oración con las palabras del recuadro.

largo medir ancho

1.-Las medidas de longitud sirven para el.....y
el de las cosas.

2.-Ponga una V si es verdadero y una F si es falso

El flexómetro (metro) lo utiliza el panadero.

La cinta métrica lo utilizan las costureras.

Podemos medir con una regla: aceite, leche, harinas.

3.-Una con una línea los nombres de estos objetos que sirven para medir longitudes.



Cinta métrica

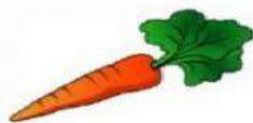


regla



flexómetro

4.-¿Cuál es la unidad de medida que es más conveniente para medir cada objeto? Marca con una X si se mide con metro (m) o centímetro (cm)



☐ m
☐ cm



☐ m
☐ cm



☐ m
☐ cm



☐ m
☐ cm




☐ m
☐ cm



☐ m
☐ cm


5.-Señala cuál de estas cosas se venden por metro.




6.-Anota cuánto miden estos objetos.



CM



CM



CM

