





SOAL LATIHAN AKM NUMERASI 6

Usaha Minuman Kekinian “Seger”

Usaha di bidang minuman memang sedang diminati oleh banyak pelaku usaha. Selain mudah dijalankan, usaha ini memiliki penggemar tersendiri. Hal ini yang mendorong pengusaha muda, Dani mendirikan bisnis minuman kekinian bernama “Seger”. Fani menjual berbagai jenis minuman. Perhatikan data hasil penjualan minuman di kedai milik Fani pada bulan ini.

Jenis Minuman	Terjual
Cokelat Original Rp 10.000,00/gelas	
Cokelat Nutela Rp 11.000,00/gelas	
Green Tea Rp 11.000,00/gelas	
Red Velvet Rp 12.000,00/gelas	

Keterangan: setiap gambar mewakili 100 gelas

1. Manakah pernyataan yang benar dan manakah yang salah? Tandai dengan ceklis (✓) pada kotak di kolom yang sesuai

Pernyataan	Benar	Salah
Minuman redvelvet paling laku		
Minuman green tea paling sedikit peminat		
Minuman cokelat Nutela lebih laku daripada cokelat original		
Minuman yang paling banyak peminat adalah cokelat original		

2. Selisih penjualan minuman yang paling banyak dan paling sedikit peminat pada bulan ini adalah gelas

Perpustakaan Desa



Jono dan teman-temannya senang mengunjungi perpustakaan desa. Disana banyak buku yang bermanfaat. Perpustakaan di desa Jono memiliki berbagai jenis buku. Berikut ini informasi banyak buku di perpustakaan desa yang dicatat Jono.

Jenis Buku	Banyak Buku
Keagamaan	120
Ekonomi-Bisnis	280
Kesehatan	$\frac{1}{2}$ lebih banyak dari buku Ekonomi-Bisnis
Pengetahuan umum	$\frac{3}{4}$ lebih banyak dari buku Ekonomi-Bisnis
Fiksi	320
Kesenian	60
Hukum-Perundangan	90
Pengembangan Diri	50

3. Petugas perpustakaan desa Jono mencatat banyak buku sesuai Jenisnya. Petugas perpustakaan menuliskan banyak buku sesuai jenisnya secara urut dari yang paling sedikit. Berdasarkan data banyak buku dalam bacaan, bagaimana urutan jenis buku dari yang paling sedikit?
- Buku pengembangan diri – buku kesenian – buku hukum perundangan – buku keagamaan
 - Buku keagamaan – buku pengembangan diri – buku ekonomi bisnis – buku fiksi
 - Buku pengetahuan umum – buku kesenian – buku keagamaan – buku kesehatan
 - Buku kesenian – buku hukum perundangan – buku keagamaan – buku pengetahuan umum

4. Pasangkan sesuai keterangan pada bacaan dengan menarik garis!

Jumlah buku fiksi dan pengembangan diri	190
Buku yang selisihnya 60	Buku hukum-perundangan dan pengembangan diri
Selisih buku ekonomi-bisnis dan hukum-perundangan	240
Buku yang berjumlah 140	Buku keagamaan dan kesenian
	370