

# EL DOBLE



1.



El doble de 4 es  →  +  =

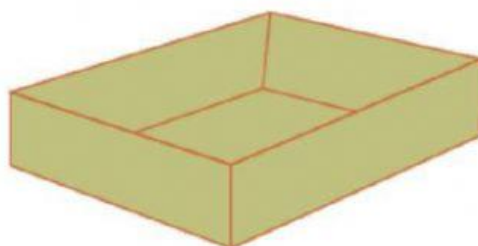
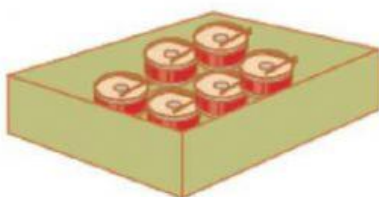


El doble de 8 es  →  +  =



El doble de 5 es  →  +  =

2. Paco ayuda a organizar juguetes. Él debe llenar la caja grande con el **doble** de tambores colocados en la caja pequeña. ¿Cuántos tambores colocará Paco en la caja grande?



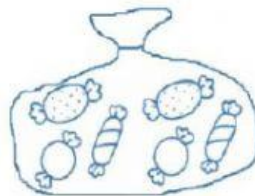
- Paco colocará en la caja \_\_\_\_\_.
- **Responde.** ¿Qué hiciste para encontrar el **doble**?


3. Observa y responde: ¿Cuántos caramelos tiene Carlos?

- a. 30 caramelos
- b. 20 caramelos
- c. 5 caramelos



4. Luis tiene 6 caramelos:




Si Carlos tiene el doble de caramelos que Luis.  
¿Cuántos caramelos tiene Carlos?

- a. 6 caramelos
- b. 3 caramelos
- c. 12 caramelos

5. Observa: Si el tambor cuesta el doble de lo que cuesta la quena, ¿cuánto cuesta el tambor?

- a. S/ 21
- b. S/ 42
- c. S/ 45



6. Observa las muñecas de Lourdes:



Elsa tiene el doble de muñecas que Lourdes.  
¿Cuántas muñecas tiene Elsa?

- a. 4 muñecas
- b. 8 muñecas
- c. 12 muñecas

7. Calcula el doble y escríbelo.

