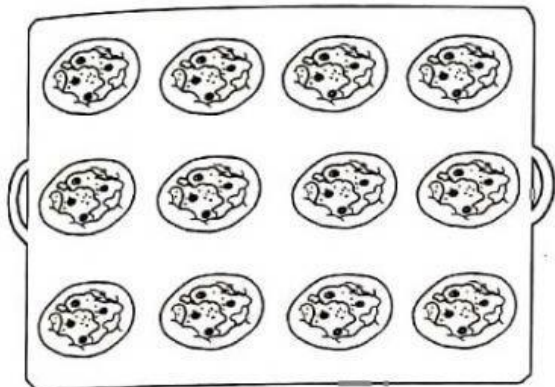


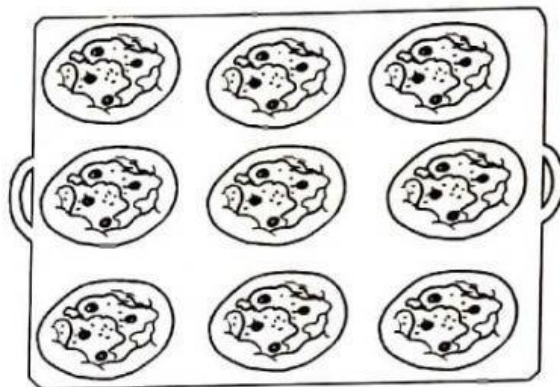
# PIZZE GUSTOSE

Leggi e completa.


- Il fornaio Gustavo sistema le pizzette appena sfornate sui vassoi. Aiutalo a contarle, in ogni schieramento, come nell'esempio.



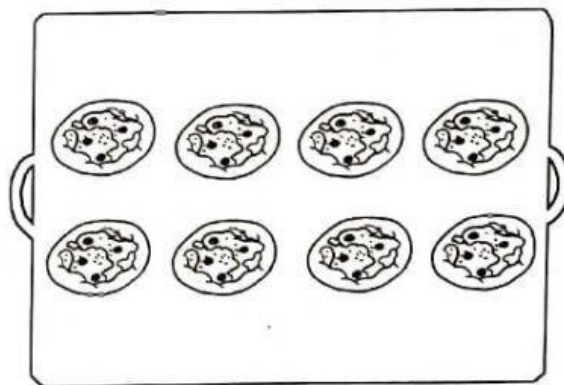
- Le COLONNE SONO 4
- Le righe sono 3.
- Le pizzette sono:  $4 \times 3 = 12$



- Le COLONNE SONO.....
- Le righe sono .....
- Le pizzette sono .....



- Le COLONNE SONO.....
- Le righe sono .....
- Le pizzette sono .....



- Le COLONNE SONO.....
- Le righe sono .....
- Le pizzette sono .....