





ACTIVIDAD DE MATEMÁTICAS
UBIQUE EL SIGNO QUE CORRESPONDA A CADA
EJERCICIO

DE LA FAMILIA DEL 170


SIGNO MENOR QUE



SIGNO MAYOR QUE



SIGNO IGUAL QUE



170		178
175		175
176		179
174		174
173		172
177		171