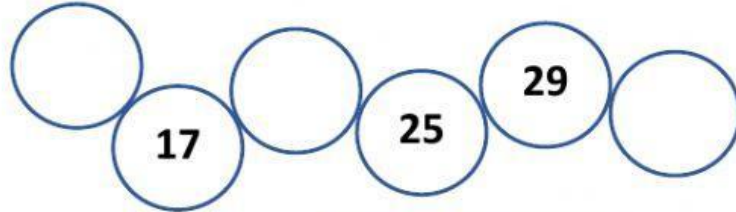



Nombre: \_\_\_\_\_

1. Completar la sucesión con los números faltantes y responder las siguientes preguntas.



¿Qué operación matemática se utiliza en la sucesión?

¿Cuál es el patrón de formación en esta sucesión?



¿Qué operación matemática se utiliza en la sucesión?

¿Cuál es el patrón de formación en esta sucesión?

2. Leer y verificar si las series se completaron correctamente con los patrones.  
Responder "SI", si serie formada es correcta y "NO", si la serie es incorrecta.

39, 40, 35, 36

Patrón: Sumar 1 a cada término y restar 5 al siguiente

Respuesta:

27, 12, 21, 6, 15

Patrón: Restar 15 a cada término y sumar 9 al siguiente.

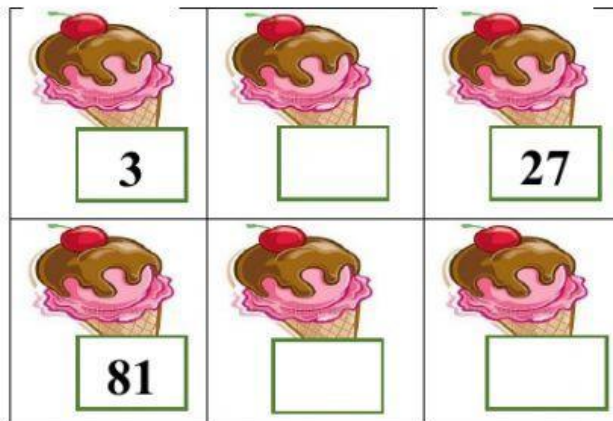
Respuesta:

3. Completar la sucesión con los números faltantes y responder las siguientes preguntas.



¿Qué operación matemática se utiliza en la sucesión?

¿Cuál es el patrón de formación en esta sucesión?



¿Qué operación matemática se utiliza en la sucesión?

¿Cuál es el patrón de formación en esta sucesión?



¿Qué operaciones matemáticas se utilizan en la sucesión?

¿Cuáles son los patrones de formación en esta sucesión?