

BASE COMUM- 24/11/2021

- 1.** AJUDE A PRINCESA DANDARA A DESCOBRIR O RESULTADO DAS CONTINHAS
PINTANDO A RESPOSTA CORRETA (USE OS DEDOS DAS MÃOS OU FAÇA BOLINHAS
NUMA FOLHA À PARTE PARA DESCOBRIR A RESPOSTA)



$$5 + 2$$

7

9

8

$$7 + 4$$

11

12

13

$$9 + 6$$

15

13

14

$$6 + 5$$

15

11

14

$$8 + 4$$

10

9

12

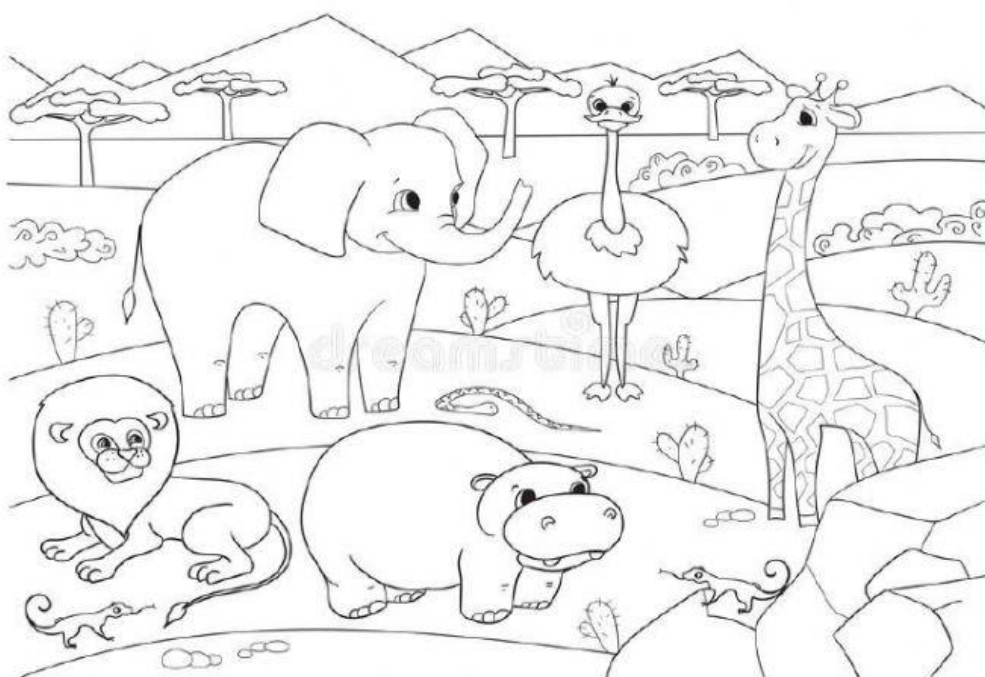
$$3 + 6$$

10

9

13

- 2.** DANDARA É UMA PRINCESA MUITO SIMPÁTICA! OS ANIMAIS AMAM ESTAR PERTO
DELA. OBSERVE AS IMAGENS ABAIXO E RESPONDA:



A. PINTE O NOME DOS ANIMAIS QUE APARECEM NO DESENHO;

GIRAFA

GATO




ELEFANTE

PAPAGAIO

LEÃO

HIPOPÓTAMO

B. QUANTAS PATAS TÊM:



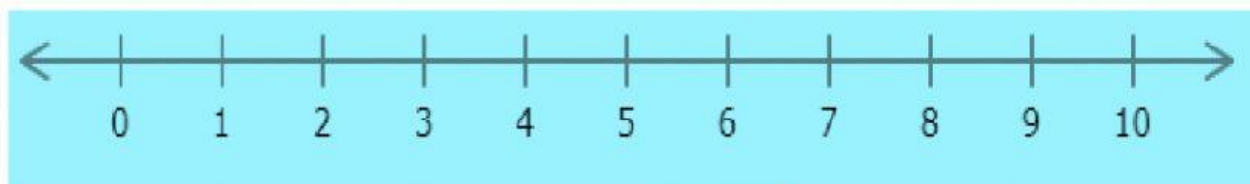
C. SE JUNTAR TODAS AS PATAS DESSES ANIMAIS O RESULTADO SERÁ:

15

10

18

3. OLHE A RETA NUMÉRICA E CONTINUE RESPONDENDO COM ATENÇÃO!



A. QUAL NÚMERO VEM ANTES DO 6?

B. QUAL NÚMERO VEM DEPOIS DO 9?

C. QUAL NÚMERO ESTÁ ENTRE O 7 E O 9?

D. QUAL NÚMERO É O RESULTADO DE $4 + 5$?

E. QUAL É O PRIMEIRO NÚMERO NA RETA NUMÉRICA?