

Thứ hai, ngày 8 tháng 11 năm 2021.

Dặn dò

Họ và tên: .....

Lớp: .....

✓ **Tiếng Việt : Bài 40: âm - âp**

Học sinh luyện đọc bài sau và chọn vào ô em đọc đúng:

**âm**

**âp**

**ăm**

**ăp**

**ám áp**

**hái nấm**

**mập mạp**

**âm thăm**

**Nghỉ lễ, bố mẹ ở nhà. Cô chú ra nhà thăm bố mẹ Lê. Mẹ làm mâm cỗ có cá hấp, chả lụa, giò bò. Cô chú Lê mê cá hấp của mẹ vì nó có vị đậm đà.**

✓ **Toán : học sinh làm thêm các bài sau:**

1. Tính:

$1 + 3 = \dots\dots\dots$

$4 + 2 = \dots\dots\dots$

$4 + 0 = \dots\dots\dots$

$5 + 1 = \dots\dots\dots$

$6 + 0 = \dots\dots\dots$




$3 + 2 = \dots\dots\dots$




$$3 + 3 = \dots\dots\dots$$
$$4 + 1 = \dots\dots\dots$$




$$3 + 0 = \dots\dots\dots$$
$$5 + 0 = \dots\dots\dots$$

$$0 + 2 = \dots\dots\dots$$
$$1 + 5 = \dots\dots\dots$$


2. Số?

 +  =  

 +  =  

 +  =  

3. Viết phép tính phù hợp với tranh vẽ:



+

=