

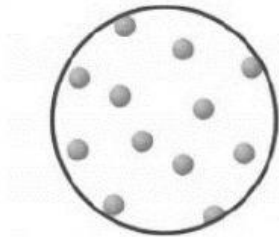
# LA MATERIA TERCERO

Nombre: \_\_\_\_\_

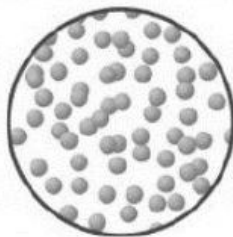
1. Lee el texto y completa

Todo lo que existe está formado por \_\_\_\_\_, la cual está formada por moléculas que se componen de partículas más pequeñas llamadas \_\_\_\_\_, los cuales según la forma en que se agrupen forman los 3 estados de la materia que son \_\_\_\_\_, \_\_\_\_\_, \_\_\_\_\_.

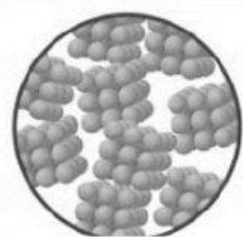
2. Según el orden de las moléculas observa los dibujos y escribe su estado



\_\_\_\_\_



\_\_\_\_\_



\_\_\_\_\_

3. Responde falso o verdadero

- a. El agua tiene forma propia \_\_\_\_\_
- b. Los objetos en estado sólido toman la forma del recipiente \_\_\_\_\_
- c. Lo que está en estado gaseoso lo podemos ver, pero no tocar \_\_\_\_\_

4. Escribe debajo de cada imagen a qué estado pertenece



\_\_\_\_\_



\_\_\_\_\_



\_\_\_\_\_



\_\_\_\_\_



\_\_\_\_\_



\_\_\_\_\_



\_\_\_\_\_