

ESCOLA MUNICIPAL CONSELHEIRO JOSINO	
LABORATÓRIO DE TECNOLOGIAS DIGITAIS	
PROFESSORA: Andréa Jardim	DATA:
ALUNO (A):	TURMA: 1º ano
CAMPO DO CONHECIMENTO: Matemática	CÓDIGO: EF01MA04
HABILIDADES: Identificar a ordem crescente e a ordem decrescente de quantidades assim como a sequência dos números (até pelo menos 20).	

Ordem Crescente e Decrescente

ORDEM CRESCENTE

QUANDO ESCRREVEMOS OS NÚMEROS COMEÇANDO PELO MENOR indo para o maior, ESTAMOS USANDO A ORDEM CRESCENTE.



1 - ESCREVA OS NÚMEROS DE 1 A 8 EM ORDEM CRESCENTE.

2 - ORGANIZE OS NÚMEROS EM ORDEM CRESCENTE.

25 - 5 - 11 - 3 - 6 - 18 - 21 - 9


3 - MARQUE A SEQUÊNCIA QUE ESTÁ EM ORDEM CRESCENTE.

- () 2 - 7 - 3 - 8 - 1 - 4
 () 3 - 6 - 9 - 15 - 18 - 21
 () 2 - 4 - 6 - 3 - 8 - 7



ORDEM CRESCENTE

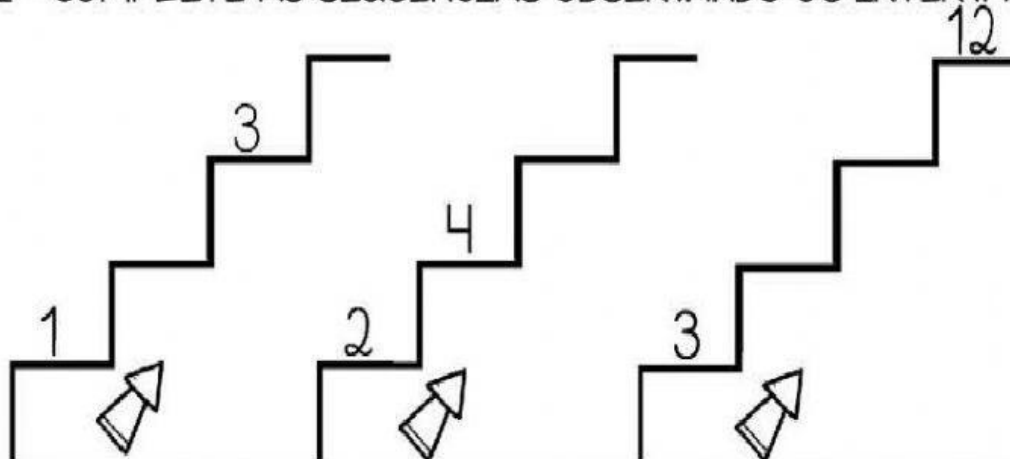
1 - ESCREVA EM ORDEM CRESCENTE A IDADE DESTES MENINOS.



NOME	IDADE



2 - COMPLETE AS SEQUÊNCIAS OBSERVANDO OS INTERVALOS.





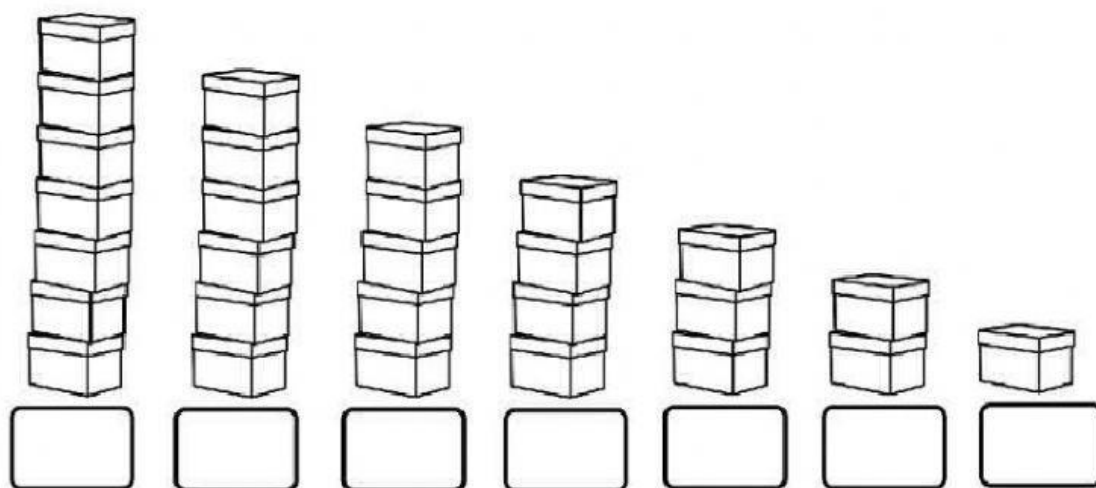
ORDEM DECRESCENTE

QUANDO ESCRREVEMOS OS NÚMEROS COMEÇANDO PELO MAIOR INDO PARA O MENOR, ESTAMOS USANDO A ORDEM DECRESCENTE.

1 - ESCRVA OS NÚMEROS ABAIXO EM ORDEM DECRESCENTE.

9 7 2 5 3 1 8 4 6

2 - OBSERVE E NUMERE AS CAIXAS. DEPOIS INDIQUE A ORDEM USADA.



ORDEM CRESCENTE

ORDEM DECRESCENTE



ORDEM DECRESCENTE

- AJUDE O COELHINHO A ENCONTRAR A PLANTAÇÃO DE CENOURAS ESCRIVENDO OS NÚMEROS EM ORDEM DECRESCENTE.

