




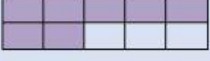
Ficha de repaso de matemáticas

Tema 5: fracciones



Os dejo este vídeo para recordar las fracciones.

1. Completa la tabla según corresponda.

Gráfico	Fracción	Se lee...
		
		
		
		

2. Compara las siguientes fracciones colocando los signos < o >.

$\frac{3}{5}$		$\frac{1}{5}$
$\frac{7}{12}$		$\frac{9}{12}$
$\frac{4}{9}$		$\frac{5}{9}$
$\frac{3}{7}$		$\frac{2}{7}$
$\frac{1}{3}$		$\frac{2}{3}$

Ficha de repaso de matemáticas

Tema 5: fracciones



3. Calcula el resultado de los siguientes números mixtos.

$\frac{1}{4}$ de 24 =	$\frac{3}{7}$ de 35 =	$\frac{4}{5}$ de 50 =	$\frac{7}{10}$ de 60 =
-----------------------	-----------------------	-----------------------	------------------------

4. Lee y escribe la fracción que representa cada situación

Lucas aprobó dos asignaturas de las ocho que tiene.

Fracción →

Lucía compró un paquete de 6 huevos y utilizó para cocinar 5.

Fracción →

Alejandro tiene 12 lápices de colores de los cuales perdió 3.

Fracción →

En el campo eólico hay 20 molinos, pero solo funcionan 17.

Fracción →

Noelia y su familia fueron a comer pizza, pidieron una pizza de ocho porciones y se comió cuatro

Fracción →

Ficha de repaso de matemáticas

Tema 5: fracciones



5. Calcula y relaciona cada fracción con flechas con su equivalente.

$\frac{1}{4}$	
$\frac{2}{3}$	
$\frac{1}{5}$	
$\frac{1}{3}$	

$\frac{4}{6}$	
$\frac{2}{10}$	
$\frac{2}{8}$	
$\frac{3}{9}$	

