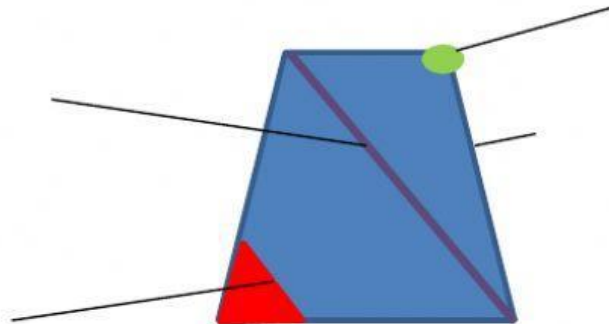


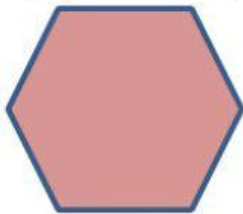
LOS POLÍGONOS

1. Coloca correctamente los elementos de este polígono.

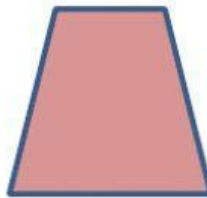
vértice lado ángulo diagonal




2. Completa en cada polígono lo que te piden:



Tengo vértices
y lados.



Tengo vértices
y ángulos.



Tengo lados
y ángulos.





3. Escribe el nombre de los elementos de un polígono.

- Tienen 2 lados y un vértice en común.
- Segmentos que forman el polígono.
- Son los puntos donde se unen los lados.
- Son segmentos que unen dos vértices no consecutivos.


4. Completa:

- Un es un polígono de tres lados.
- Un cuadrilátero es un polígono de lados.
- Los polígonos de cinco lados se llaman .
- El es un de seis lados.
- Un heptágono tiene lados.
- Los polígonos de ocho lados se llaman .

5. Escribe cuáles de estas figuras son polígonos. (Escribe SI o NO).




6. ¿Cuánto miden los perímetros de los siguientes polígonos regulares?




20cm

Mide cm.



3 cm

Mide cm.



5 cm

Mide cm.

7. Los polígonos regulares son: (selecciona)

- Todos sus ángulos son iguales.
- No tiene todos sus lados iguales.
- Todos sus lados son iguales.
- No todos sus ángulos son iguales.

8. Di si estos polígonos son regulares o irregulares. Escribe regular o irregular.

