

# MATEMÁTICAS


1. Observa las actividades y ordénalas de menor a mayor tiempo que dura.



2. Escribe en cada espacio, la cantidad que representas las monedas y billetes.




3. Une cada figura con su nombre.





**Triángulo**

**Círculo**




**Cuadrado**

**Rectángulo**



En la frutería hay bolsas con diez manzanas y sueltas, observa el pedido de Ángela y responde.



5. ¿Cuántas manzanas compró Ángela?

manzanas

6. ¿Cuántas manzanas le faltarán para tener 100?

manzanas


7. Si Camila quiere 58 manzanas ¿Cuántas debe comprar?

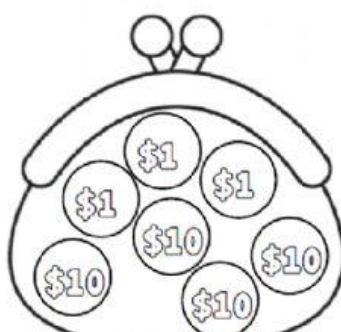
bolsas

sueatas

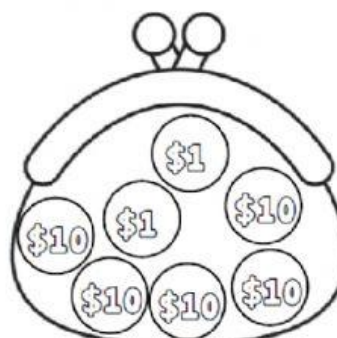
Observa los precios y contesta



8. Marca con una  el monedero que tiene más dinero.



María



Mario



9. ¿Cuánto le falta a Mario para comprar el carro?

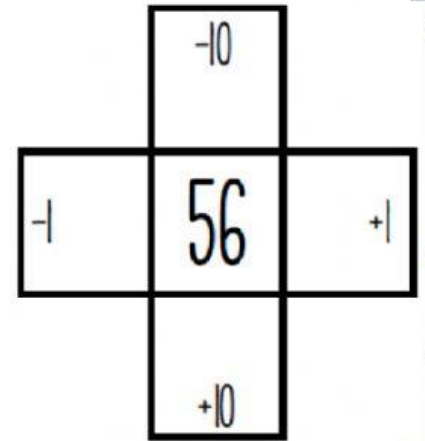
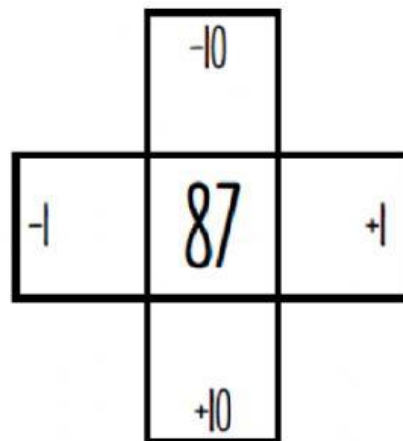
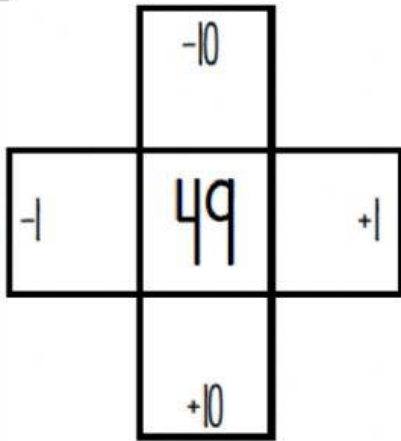
pesos



10. María quiere comprar el trompo ¿Cuánto le falta?

pesos

11. Completa el número que va antes y después.



12. Completa las siguientes series:

2	4	6					
3	6	9					
5	10	15					

13. Une con una línea el número con la escritura que le corresponde.

56

Setenta y dos

29

Cincuenta y seis

72

Veintinueve

14. Resuelve las siguientes sumas.

$$\begin{array}{r} + 25 \\ 32 \\ \hline \end{array}$$

$$\begin{array}{r} + 72 \\ 29 \\ \hline \end{array}$$



15. Resuelve las siguientes restas.

$$\begin{array}{r} - 48 \\ 16 \\ \hline \end{array}$$

$$\begin{array}{r} - 72 \\ 39 \\ \hline \end{array}$$

