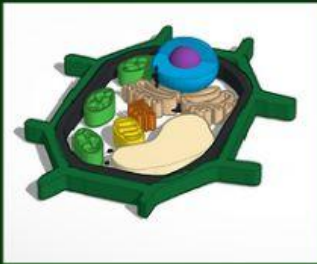


ACTIVIDAD DE REFUERZO

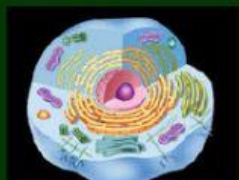
1.- ARRASTRA EL NOMBRE DEL TIPO DE CÉLULA QUE CORRESPONDE



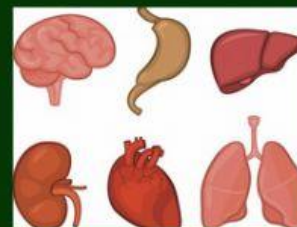
CÉLULA ANIMAL

CÉLULA VEGETAL

2.- UNE CON UNA LÍNEA SEGÚN CORRESPONDA EL TIPO DE CÉLULA Y EL SER AL QUE PERTENECE



3.- OBSERVA EL GRÁFICO Y COLOCA UNA X SI ES TEJIDO, ÓRGANO O SISTEMA



☐ **TEJIDO**

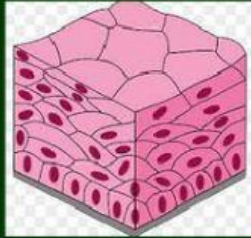
☐ **ÓRGANO**

☐ **ORGANISMO**

☐ **ORGANISMO**

☐ **ÓRGANO**

☐ **TEJIDO**



☐ ÓRGANO

☐ ORGANISMO

☐ TEJIDO

4.- UNE CON UNA LÍNEA SEGÚN CORRESPONDA ACERCA DE LOS REINOS DE LOS SERES VIVOS



BACTERIA



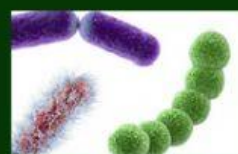
VEGETAL



PROTISTA



HONGO



ANIMAL



ARQUEA

5.- MARCA CON UNA X LA PARTE DE LA CÉLULA DONDE SE ENCUENTRA EL ADN.

☐ CITOPLASMA

☐ NÚCLEO

☐ MEMBRANA

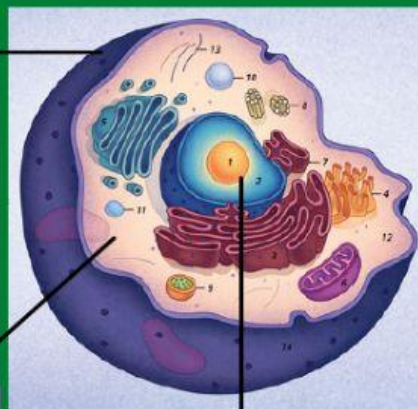


6.- ARRASTRA LAS PARTES DE LA CÉLULA ESCRIBE SUS PARTES

Membrana

Citoplasma

Núcleo



1.- INDICA CÓMO SE LLAMA EL SIGUIENTE PROCESO

