

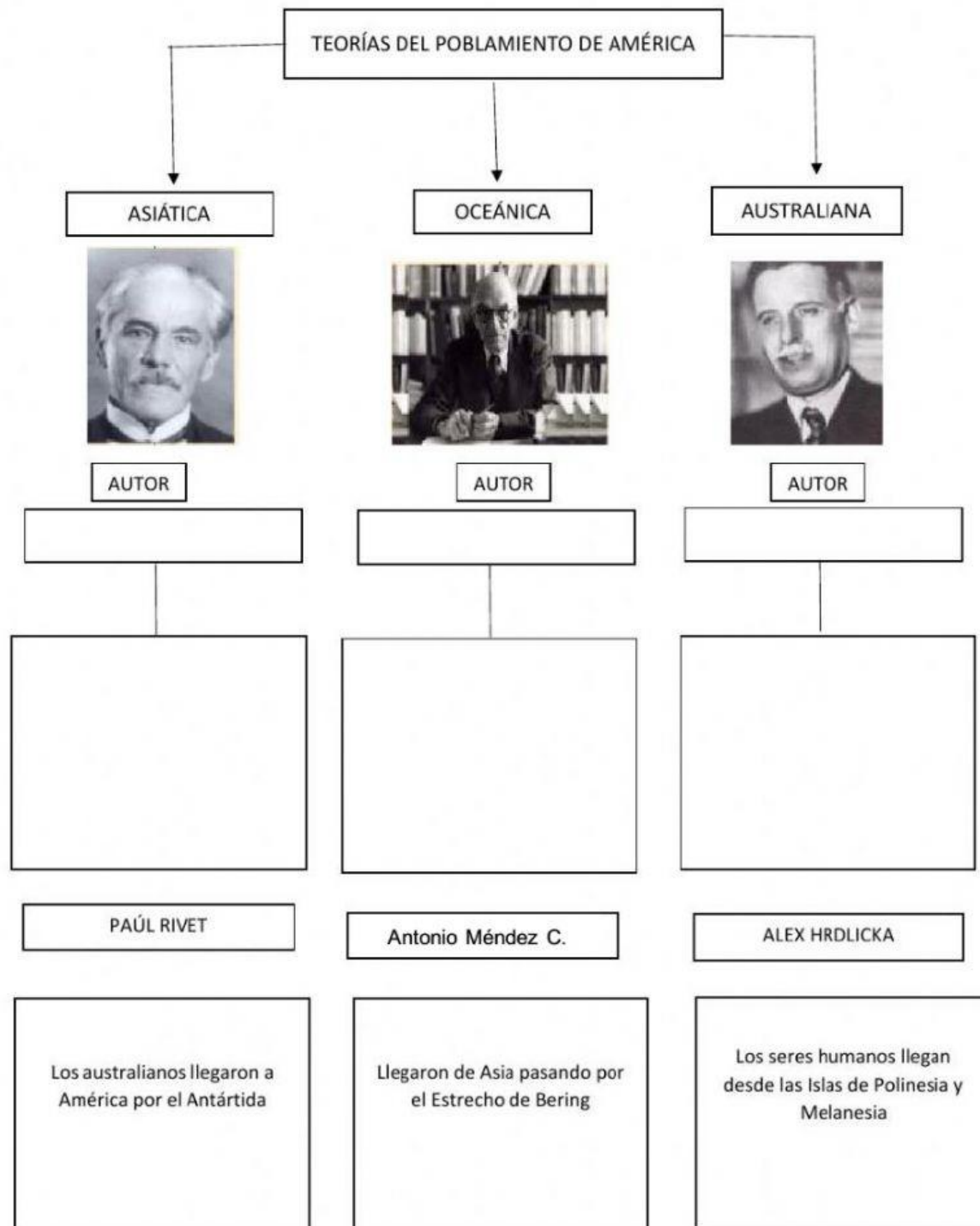


Materia: HISTORIA

INSTRUCCIONES

Lee atentamente cada pregunta y responde correctamente cada una. ¡Mucho éxito!

1. Arrastra los recuerdos con la Teoría que le corresponde:



2. Selecciona si es verdadero o falso:

- a) Los cazadores nómadas viajaron de América hacia otros continentes.
- b) Los hombres que llegaron a América conocían la agricultura y la ganadería.
- c) El hombre cruzo el Estrecho de Bering para llegar a América.

3. Selecciona la respuesta correcta:

1) Hace muchos años atrás, la Tierra se.....

calentó

congeló

inundó



2) Los primeros pobladores llegaron a América cruzando el

Puente colgante

Estrecho de Bering



3) Los primeros pobladores se dividen en

Nómadas y Sedentarios


Mujeres y Varones

4) Los iban de un lugar a otro cazando animales y recolectando frutos.

viajeros

nómadas

turistas



5) Los se quedaron en un solo lugar y se establecieron en viviendas .

sedentarios

sacerdotes

campesinos



Instrucciones: Arrastra la respuesta en el lugar correcto.

 Año	 Lustró	 Siglo	 Década	 Milenio
<div></div>	<div></div>	<div></div>	<div></div>	<div></div>
1000 años	10 años	365 días	5 años	100 años


Une cada oración con su complemento:

- | | |
|--|--|
| 1. Cómo justifican los historiadores que los nómadas dan comienzo a la práctica de la agricultura: | a) Maíz, chile, aguacate, frijol, chayote. |
| 2. Son algunos ejemplos de lo que cultivaban los cazadores-recolectores: | b) Alrededor del año 5000 a. C. |
| 3. Año en el que se inició el cultivo de maíz en México: | c) Porque aprendieron la agricultura y la domesticación. |
| 4. Cómo fue que los grupos humanos dependieron menos de la cacería y la recolección: | d) Por el aumento de población, pues el alimento no alcanzaba. |
| 5. ¿Qué es el "trueque"? | e) Es el intercambio de productos. |
| 6. Fueron otras actividades que se desarrollaron en cuando se formaron las primeras comunidades: | f) La alfarería y la cestería. |

Arrastra y coloca cada uno en el lugar que corresponde en el mapa:




Une la imagen con el texto que le corresponde:



Cubría gran parte de la superficie de los actuales estados mexicanos de Chihuahua y Sonora y de Arizona, Utah, Nuevo México y California, en Estados Unidos.



Sus límites territoriales abarcaban desde el noroeste de México, en los actuales estados de Sinaloa y Nayarit, hasta el occidente de Honduras, Nicaragua y Costa Rica.



Abarcó parte del territorio actual de Estados Unidos de América (centro y sur de California y noroeste de Arizona) y de México (Chihuahua, Coahuila, costa de Sonora y la península de Baja California).