

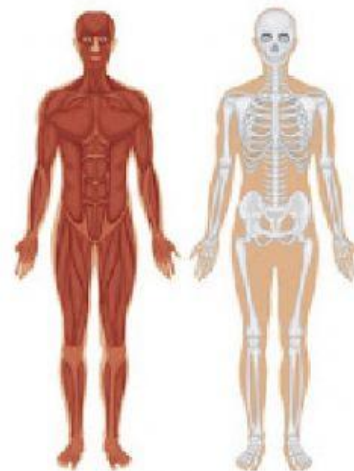
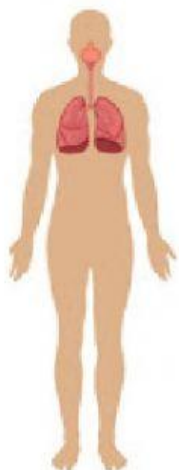
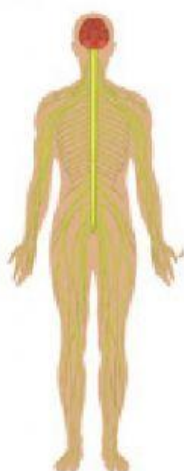
Hoja de Valor No. 1

Nombre: _____ Calificación: _____

1. Lee la información de los recuadros. La información está desorganizada.

Sistema digestivo	Aparato locomotor	Sistema nervioso	Sistema respiratorio
Es el encargado de extraer el oxígeno del aire y transformarlo en energía.	Es el encargado del desplazamiento y el movimiento del cuerpo.	Es el encargado de procesar los alimentos y tomar los nutrientes necesarios.	Es el encargado de controlar todo lo que hacemos; por ejemplo respirar, caminar, pensar etc.

2. Escribe debajo de cada sistema su nombre y función correspondiente. (___/8)



3. Escribe el aparato al que pertenecen los siguientes órganos. (___/8)



Pulmones



Músculos



Estómago



Boca



Huesos



Intestino



Nariz



Cerebro

4. Escribe cuatro recomendaciones para cuidar de los diferentes aparatos y sistemas del cuerpo humano. (___/4)
