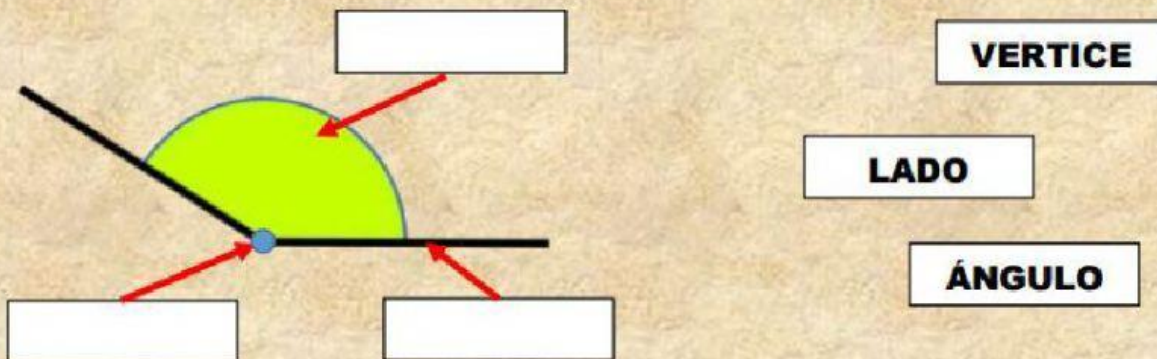


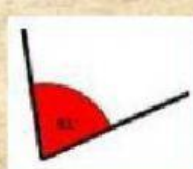
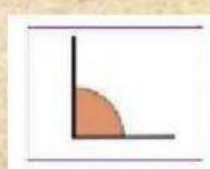
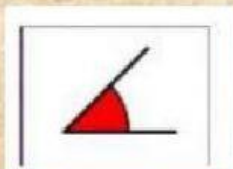


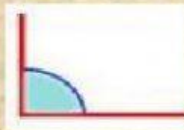



UNIDAD EDUCATIVA "Margarita Amestoy de Sánchez"
3º AÑO DE EDUCACIÓN GENERAL BÁSICA A-B-C-D
MATEMÁTICA – TAREA

1. Arrastra las palabras del recuadro indicando las partes del ángulo.



2. Clasifica estos ángulos según sean obtusos, agudos o rectos.



Ángulos agudos

Ángulos rectos

Ángulos obtusos

3. Clasifica a los ángulos según su medida.



98°

60°

180°

165

126°

90°

17°

189

145

64°

5. Relaciona según corresponda los ángulos.

El ángulo mide exactamente 180°



ÁNGULO OBTUSO

El ángulo mide exactamente 90°



ÁNGULO AGUDO

El ángulo mide menos de 90°



ÁNGULO LLANO

El ángulo mide más de 90° y
menos de 180°



ÁNGULO RECTO

