

HOJA DE TRABAJO INTERACTIVA Valor 6%

TEMA: GRÁFICAS DE FUNCIONES: INTERCEPTOS, DOMINIO Y RANGO

SUB-COMPETENCIA

- ✓ Identifica: funciones, interceptos, dominio y rango de funciones

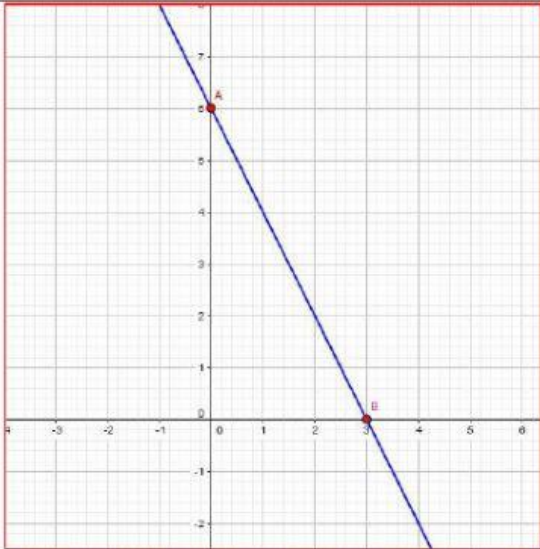
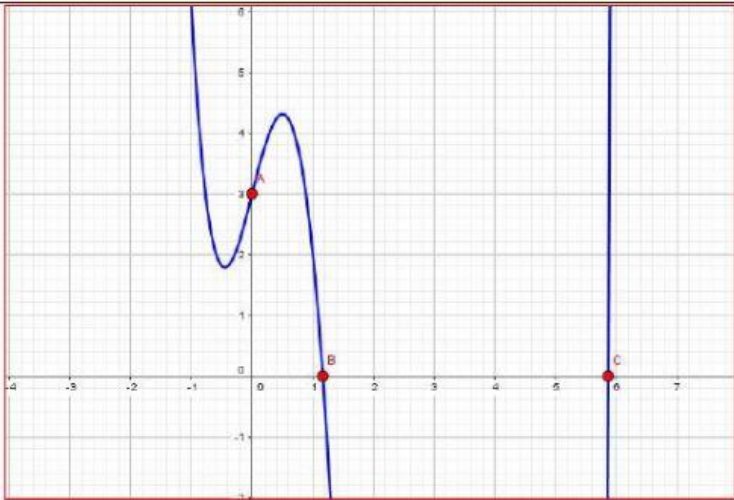
PRESENTADO POR: _____

Instrucciones:

Escriba en el espacio que corresponde las respuestas que correspondan a cada uno de los ejercicios que se le plantean

1. Identifique los interceptos en X e Y para cada una de las funciones dadas.

Escriba el par ordenado que corresponde, en los interceptos considere también números decimales. (2.5%)

Función	Intercepto en x	Intercepto en y
	lx: _____	ly: _____
	lx: _____ lx: _____	ly: _____

2. Determinar si la gráfica dada es función, escriba a la par de cada gráfica: Si ó No. (2%)

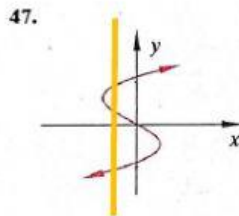


FIGURA 77

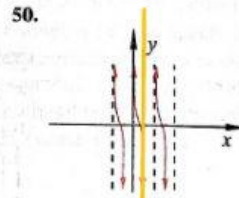


FIGURA 80

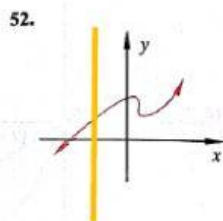


FIGURA 82




FIGURA 83

3. Determine el dominio y el rango de la gráfica que se le presenta (1.5%)

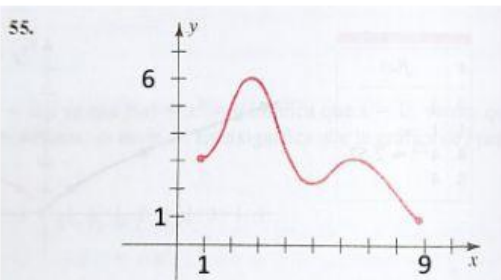


FIGURA 85

Dominio: _____

Rango: _____