

ACTIVIDAD INTERACTIVA DE MATEMÁTICAS

FRACCIÓN DE UN CONJUNTO

Usa el dibujo para responder las preguntas 1 y 2.



1. ¿Qué fracción de las camisetas son azules?

Ⓐ $\frac{3}{3}$

Ⓑ $\frac{1}{2}$

Ⓒ $\frac{3}{8}$

Ⓓ $\frac{1}{8}$

2. ¿De qué color es $\frac{1}{8}$ de las camisetas?

a) Azul

b) Amarillo

c) Verde


d) Blanco

3. ¿Qué fracción de la caja de huevos corresponde a los huevos blancos?

a) $\frac{16}{30}$

b) $\frac{24}{30}$

c) $\frac{6}{30}$




4. ¿De las siguientes fracciones cuáles sirven para representar este conjunto de ovejas?


a) $\frac{9}{12}$ y $\frac{12}{12}$

b) $\frac{9}{12}$ y $\frac{3}{12}$

c) $\frac{12}{12}$ y $\frac{3}{12}$



5. ¿Qué fracción de las medias son grises?



a) $\frac{3}{7}$

b) $\frac{5}{7}$

c) $\frac{3}{5}$