



# ÔN TẬP TUẦN 9

Môn: Toán

Họ và tên:



Chọn hình thích hợp đặt vào dấu “?”

a)



A.



B.



C.



b)



A.



B.

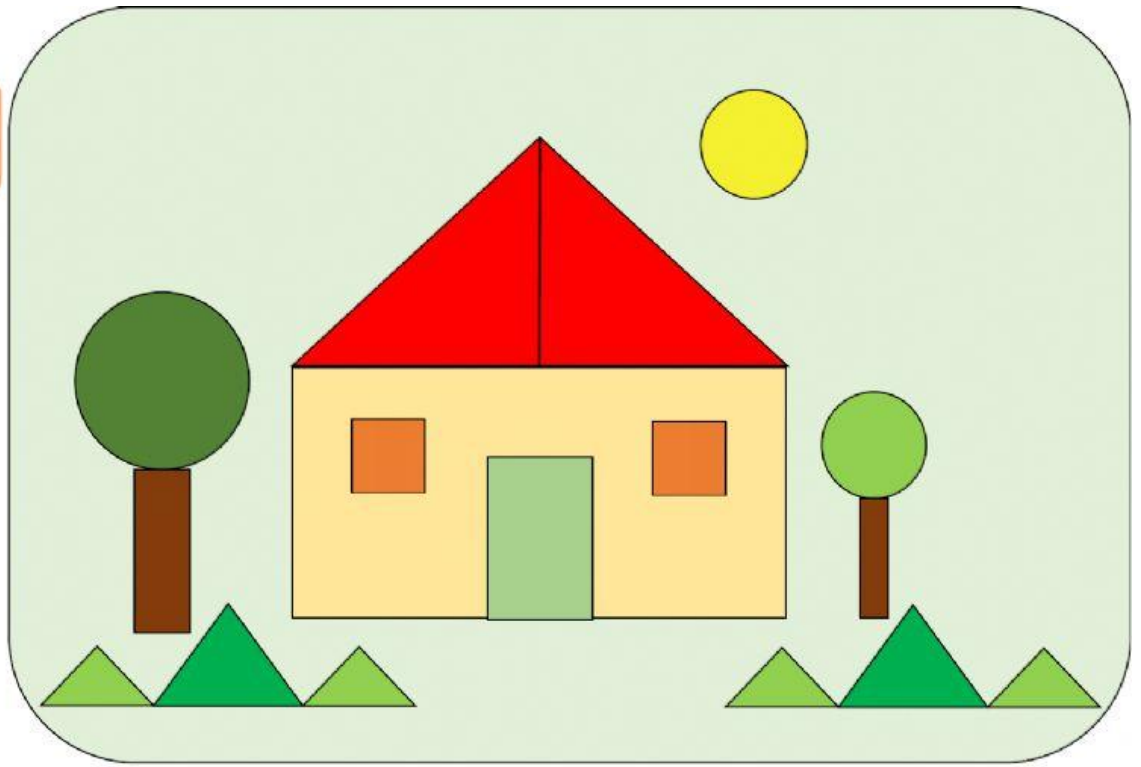
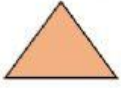


C.





Số?





## Chọn phép tính đúng

$$2 + 3 = 5$$

$$4 + 2 = 2$$

$$3 + 2 = 4$$

$$2 + 2 = 3$$

$$3 + 1 = 4$$

$$5 + 1 = 6$$



Số?

$1 + 1 = \dots$

$3 + 1 = \dots$

$4 + 1 = \dots$

$1 + 1 + 1 = \dots$

$2 + 1 = \dots$

$1 + 3 = \dots$

$3 + 2 = \dots$

$2 + 1 + 1 = \dots$

$1 + 2 = \dots$


$2 + 2 = \dots$

$5 + 1 = \dots$

$3 + 1 + 1 = \dots$



Kéo các kết quả ở các tranh,  
thả vào các phép tính phù hợp



$0 + 1 =$

$1 + 1 =$

$2 + 1 =$

$3 + 1 =$

$3 + 2 =$

$3 + 3 =$

©WWW.SEAOFKNOWLEDGE.ORG