






EVALUACIÓN DE HISTORIA CUARTO GRADO PRIMER TRIMESTRE

1. ARRASTRA EL CUADRO DE LA IMAGEN CORRESPONDIENTE PARA
CONTESTAR LAS PREGUNTAS DE MANERA CORRECTA

¿Qué se celebra el 12 de octubre?	¿Cómo se llama el personaje principal?	¿Cómo se llaman las carabelas?	¿Cómo se llama el Continente que descubrieron?	Se descubrió que la tierra era:
				

2.Despliega la flecha y elige el nombre que corresponde a cada región



4. Une según corresponda

LUSTROS	5 años
MILENIO	10 años
SIGLO	1.000 años
DÉCADA	100 años

5. Elige la respuesta correcta de cada pregunta y escríbela sibr la linea.

1. Hace muchos años atrás, la Tierra se _____

inundó

calentó

congeló



2. Los primeros pobladores llegaron a América cruzando el _____

punte
colgante

Estrecho de
Bering

3. Los _____ de un lugar a otro cazando animales y recolectando frutos.

viajeros

nómadas

turistas

