



Kilo y medio kilo

1. Observa y completa




La sandía pesa _____ kg.



Las papas pesan _____ kg.

2. Fíjate en la balanza y escoge la fruta que puede estar en la caja.



manzana

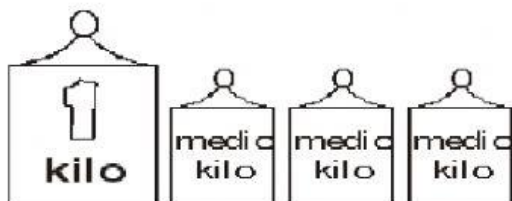
sandía




sandía

plátano

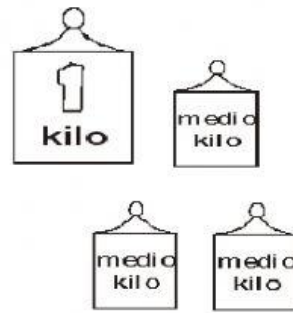
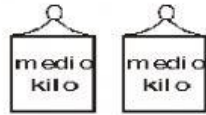
3. Responde, ¿qué cantidad hay?



Hay: _____



Hay: _____




Hay: _____

Hay: _____

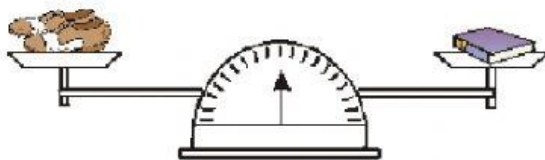
4. Observa la balanza y completa con la palabra más, menos o igual.



La tiene _____ peso que la .



La tiene _____ peso que el .



Los tienen _____ peso que el .



El tiene _____ peso que la .