



ALUNO (A): \_\_\_\_\_ DATA: \_\_\_\_\_

PROFESSOR(A): \_\_\_\_\_ ANO/TURMA: \_\_\_\_\_

AVALIAÇÃO PARA VERIFICAÇÃO DA APRENDIZAGEM DE MATEMÁTICA –  
4º BIMESTRE

- 1) Zumbi dos Palmares comprou salgadinhos de 100 gramas (g). Quantos saquinhos ele precisa para formar 400 gramas?

☐ 2

☐ 3

☐ 4

- 2) Um fardo de arroz pesa 263 quilos e um fardo de café 134 quilos. Quantos quilos o arroz pesa a mais que o café?

CÁLCULO

RESPOSTA

- 3) As crianças do quilombo ganharam uma caixa com 45 balas e dividiram para 5 crianças. Quantas balas cada criança recebeu?

CÁLCULO

RESPOSTA


- 4) As costureiras compraram 8 peças de tecidos, com 30 metros cada uma. Quantos metros de tecidos elas compraram?

☐ 210 metros

☐ 320 metros

☐ 240 metros

Observe as réguas. Em uma, estão indicados os centímetros; na outra, os milímetros.

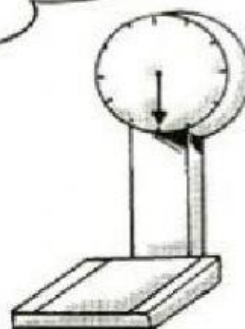



5) Quantos milímetros correspondem 10 centímetros?

## MEDIDA DE MASSA



A unidade de massa mais usada é o quilograma ou quilo.



6) Complete as frases:

- a) A \_\_\_\_\_ é o instrumento utilizado para medir a massa.
- b) Um quilograma é igual a \_\_\_\_\_ gramas.
- c) Meio quilograma é igual a \_\_\_\_\_ gramas.
- d) Dois pacotes de 500 gramas é igual a \_\_\_\_\_ quilo.
- e) Quatro pacotes de 500 gramas é igual a \_\_\_\_\_ quilos.
- f) Quantos quilos você pesa? \_\_\_\_\_

7) Observe as quantias, em dinheiro, de Dandara e Zumbi.

a) Qual o valor que Dandara tem?



---

---

---

---

---

b) Quanto tem Zumbi?



---

---

---

---

---

c) Qual a diferença de valores entre os dois?

☐ 302

☐ 306

☐ 304

☐ 230

d) Calcule o dobro do valor de Zumbi.

☐ 1380

☐ 1250

☐ 1330

☐ 2220

**BONS ESTUDOS!**