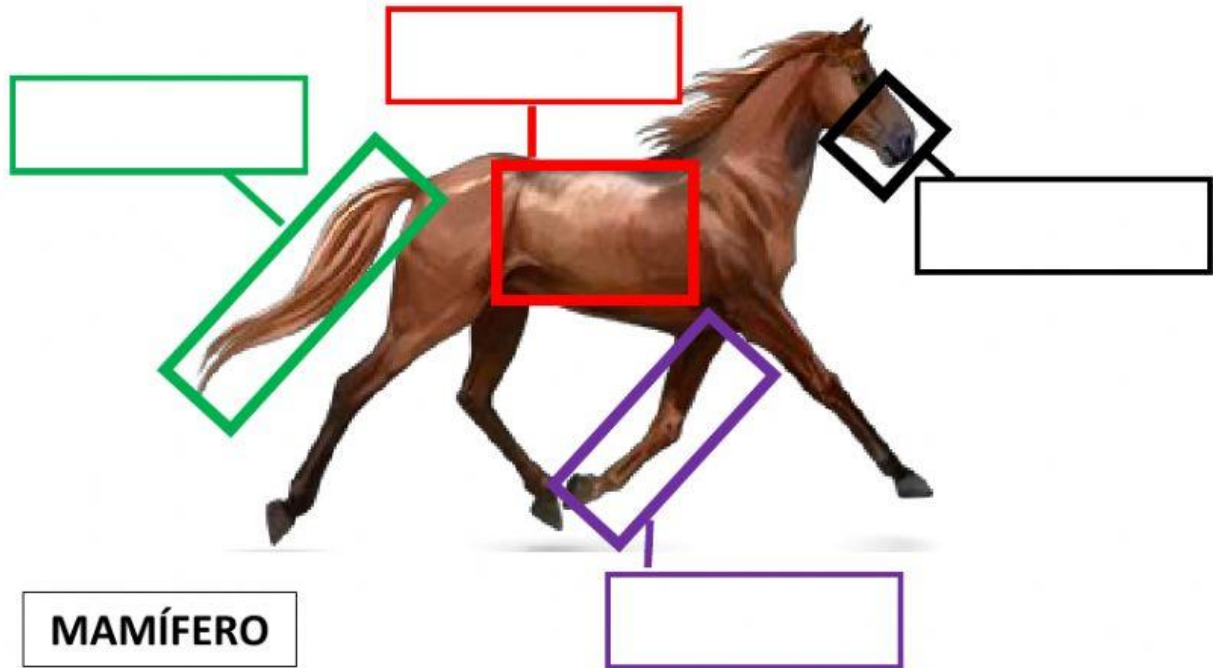


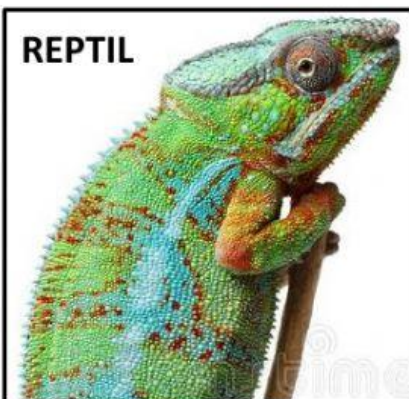
EVALUACIÓN DE CIENCIAS NATURALES DEL PRIMER PARCIAL DEL PRIMER QUIMESTRE

Name:

1. Selecciona las partes del cuerpo del animal según corresponda (**2 puntos**):




2. Observa las imágenes de los animales y selecciona el tipo de cobertura según corresponda (**2 puntos**):




3. Lee las preguntas sobre el desplazamiento y tamaño de los animales y selecciona la imagen que corresponda (**2 puntos**):

- Según las partes del cuerpo, ¿Qué animales se desplazan nadando?



- ¿Qué animales se clasifican como pequeños porque no tienen esqueleto?



4. Une las imágenes de los animales con la forma de nacimiento a la que corresponda (**2 puntos**):

PATO




OVÍPARO

VIVÍPARO

OVOVIVÍPARO

MANTARRAYA



OSO



5. Lee el texto sobre la alimentación de la iguana y después selecciona las palabras correctas para completar el ítem (2 puntos):



Las iguanas se alimentan específicamente de plantas como: hierbas, frutos, flores y verduras. Las iguanas adultas suelen comer cada 24 horas.

Según la información, las iguanas son animales

porque se alimentan de