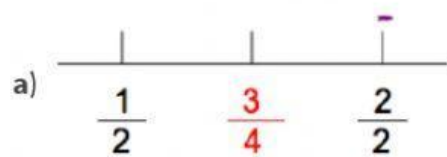
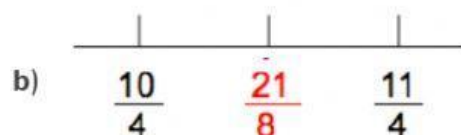


Actividad 8. A la mitad

Observa cada segmento y decide si el número en color rojo corresponde o no al punto medio.



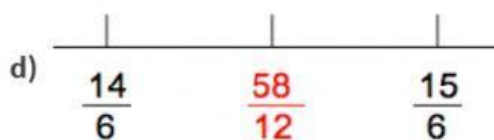
☐ Sí es el punto medio ☐ No es el punto medio



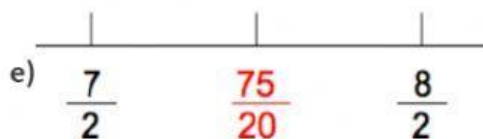
☐ Sí es el punto medio ☐ No es el punto medio



☐ Sí es el punto medio ☐ No es el punto medio



☐ Sí es el punto medio ☐ No es el punto medio



☐ Sí es el punto medio ☐ No es el punto medio

2. Así como los números naturales, las fracciones con denominador común tienen un orden. Elige la respuesta de cada pregunta.

a) ¿Cuántas fracciones, con denominador dos, hay entre $\frac{1}{2}$ y $\frac{2}{2}$?

☐ 0

☐ 1

☐ 2

b) ¿Cuántas fracciones, con denominador cuatro, hay entre $\frac{1}{2}$ y $\frac{2}{2}$?

☐ 0

☐ 1

☐ 2

c) ¿Cuántas fracciones, con denominador ocho, hay entre $\frac{10}{4}$ y $\frac{11}{4}$?

☐ 1

☐ 2

☐ 3

d) ¿Cuántas fracciones, con denominador 15, hay entre $\frac{3}{5}$ y $\frac{4}{5}$?

☐ 1

☐ 2

☐ 3