



GUIA EVALUADA

INTERPRETACIÓN DE GRÁFICOS, 4° BÁSICO

Nombre: _____ Fecha: _____

- I. Resuelve las siguientes actividades, observa detenidamente cada gráfico y luego responde

Actividad 1: El gráfico muestra la inasistencia de la semana en un curso de 3° básico.



a) ¿Cuál es el día de mayor inasistencia?

.....

b) ¿Cuántos estudiantes faltaron el lunes?

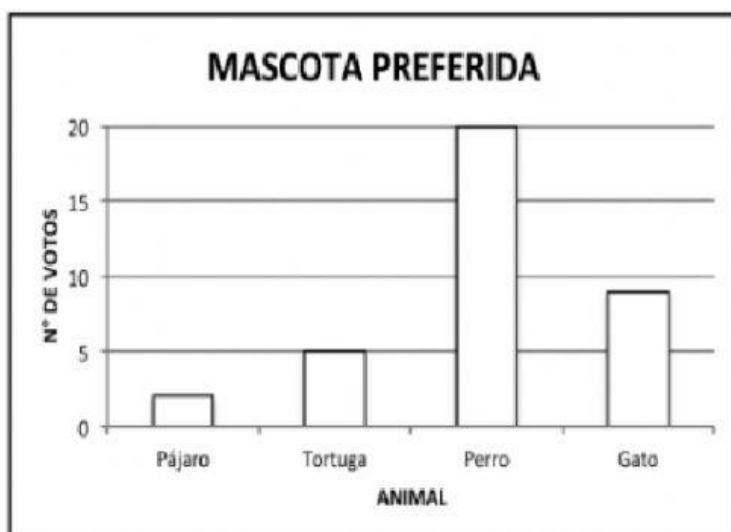
.....

c) Si el curso tiene 36 estudiantes, ¿cuántos asistieron el día viernes?

.....

Actividad 2:

El gráfico muestra la preferencia de mascota de los estudiantes.



a) ¿Cuál es la mascota menos preferida por los estudiantes encuestados?

.....

b) ¿Cuántos estudiantes tiene el curso?

.....

c) ¿Cuántos estudiantes prefieren un gato?

.....

d) ¿Cuántos estudiantes prefieren un perro?

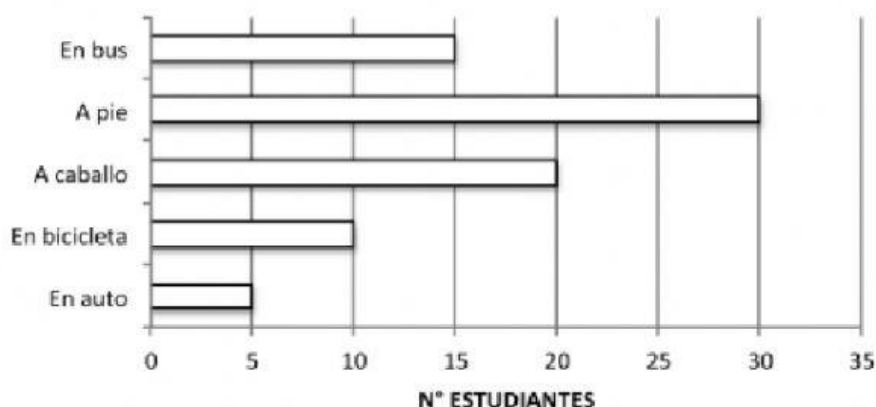
.....



Actividad 3:

Se realizó una encuesta a los estudiantes de 3° básico del colegio y la información se muestra en el siguiente gráfico.

TRASLADO A LA ESCUELA



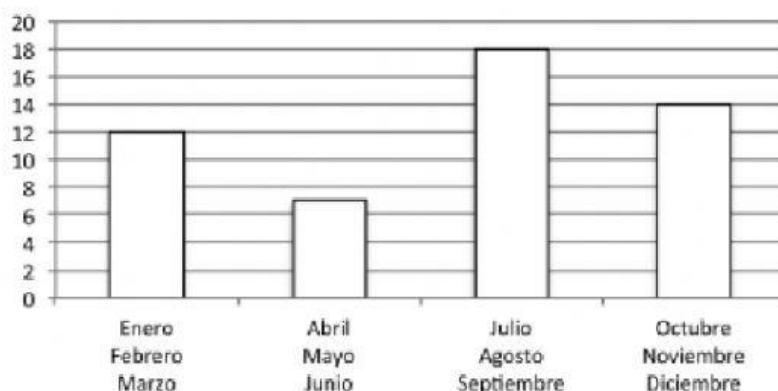
Completa:

- a) La mayoría de los estudiantes se traslada a.....
- b) El total los estudiantes de 3° básico del colegio son.....estudiantes.

Actividad 4:

Observa el gráfico y completa.

CUMPLEAÑOS DEL 3° BÁSICO



- a) En el tercer trimestre hay.....estudiantes de cumpleaños.
- b) El curso está compuesto por.....estudiantes.
- c) Durante el primer trimestre hay.....estudiantes más de cumpleaños que el segundo trimestre.



Actividad 5: Construye un gráfico de barras utilizando los datos que aparecen en la siguiente tabla

Juguetes	Cantidad
peluches	3
muñecas	4
autos	2
pelotas	5

