


PENILAIAN HARIAN MATEMATIKA
KELAS 6 KD 3.3
SDN 056 GARUDA DADALI

Nama :
Kelas :
No Absen :
Hari/Tanggal :

Teka-teki silang berikut diisi dengan unsur-unsur lingkaran. Ayo lakukan dengan teliti dan semangat!



MENDATAR

2. Area yang terdapat di dalam suatu lingkaran.
5. Daerah pada lingkaran yang dibatasi oleh tali busur dan busur lingkaran.
6. Garis lengkung yang merupakan bagian dari keliling lingkaran.
7. Daerah lingkaran yang dibatasi oleh dua buah jari-jari dan sebuah busur
8. Ruas garis yang menghubungkan sembarang dua buah titik pada lingkaran

MENURUN

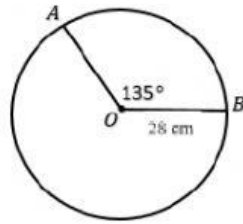
1. Tali busur terpanjang dalam suatu lingkaran.
3. Panjang garis tepi suatu lingkaran.
4. Jarak dari titik pusat lingkaran ke sembarang titik pada lingkaran.
5. Titik yang tepat berada di tengah-tengah lingkaran.

PILIH LAH JAWABAN YANG PALING TEPAT!

1. Perhatikan gambar disamping!

Panjang busur AB adalah ...

- a. 125 cm
- b. 112 cm
- c. 132 cm
- d. 135 cm



2. Keliling lingkaran yang jari-jarinya 5 cm adalah ...

- a. 3,14 cm
- b. 31,4 cm
- c. 6,28 cm
- d. 62,8 cm

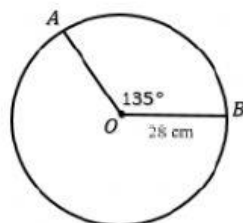
3. Luas lingkaran yang memiliki jari-jari 4 cm adalah ... cm^2 .

- a. 4,62
- b. 50,24
- c. 361
- d. 200,48

4. Perhatikan gambar disamping!

Luas juring OAB adalah ...

- a. 924 cm^2
- b. 876 cm^2
- c. 462 cm^2
- d. 352 cm^2



5. Suatu roda berdiameter 63 cm berputar menempuh jarak 198 m. Roda tersebut berputar sebanyak ...

- a. 60 kali
- b. 75 kali
- c. 100 kali
- d. 110 kali