

Examen 2 parcial

Alumno: _____

Grupo: _____

Instrucciones: Lee con atención lo que se te solicita.

1. Completa en la tabla, familia, grupo, periodo, bloques, nombre de la familia, para colocar el número de la familia sigue el ejemplo de la IA

	1	2	3	4	5	6	7	8	9	10	11	12	13	14	15	16	17	18
1	IA																	
2																		
3																		
4																		
5																		
6																		
7																		

Nombre de cada familia.

IA

IIA

III A

IVA

VA

VIA

VIIA

VIIIA

Familia A tiene grupos

Familia B tiene grupos

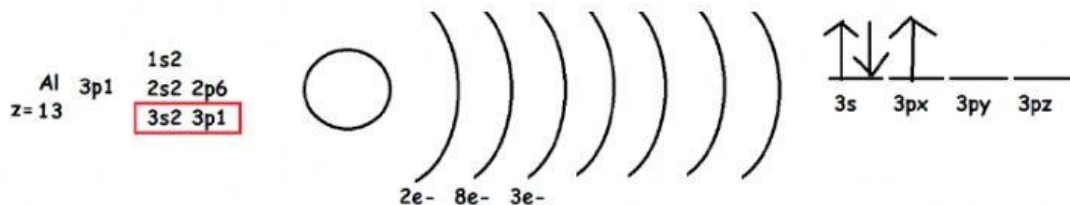
Escribe los elementos no metálicos.

Completa la siguiente tabla determina A, Z, p+, e-, n+ y e con carga

NOMBRE	SIMBOLO	A	Z	p+	e-	n+	Carga	e-carga
Cloro					17		-1	
Radio			88				+2	
	Pd						+2	
Cromo							+3	
Azufre				33			-2	

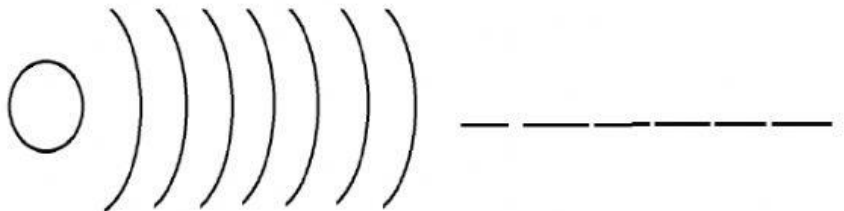
Configuración electrónica

Completa lo que te solicita, sigue el ejemplo en los spines coloca flechas



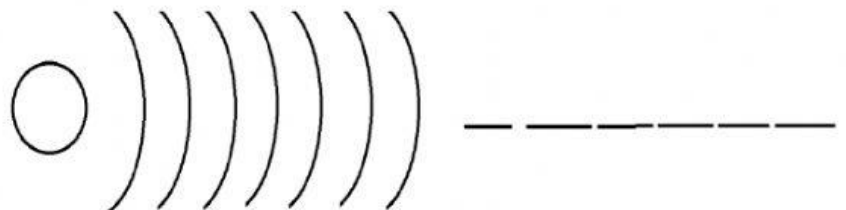
Fe

z=



Ar

z=



Sr

z=

