

ESCUELA PARTICULAR "SANTA PAULA"

EVALUACIÓN MATEMÁTICA – PARCIAL I

NOMBRE:

CURSO:

INDICACIONES:

- ✓ Lee detenidamente cada pregunta y contesta de acuerdo a lo que se solicita.

1. Selecciona como se escribe cada número (1 punto):

20

98

78

26





2. Elige el símbolo matemático adecuado (1 punto)

<input type="text" value="890"/>	<input type="text"/>	<input type="text" value="25"/>
<input type="text" value="55"/>	<input type="text"/>	<input type="text" value="100"/>
<input type="text" value="189"/>	<input type="text"/>	<input type="text" value="22"/>
<input type="text" value="33"/>	<input type="text"/>	<input type="text" value="43"/>

3. Selecciona el número que sea MAYOR de cada pareja de números (1 punto)

a	<input type="text" value="456"/>	<input type="text" value="46"/>
b	<input type="text" value="56"/>	<input type="text" value="989"/>
c	<input type="text" value="100"/>	<input type="text" value="90"/>
d	<input type="text" value="90"/>	<input type="text" value="87"/>



4. Arrastra cada número romano con su respectivo valor (2 puntos)

			
<input type="text"/>	<input type="text"/>	<input type="text"/>	<input type="text"/>
<input type="text" value="10"/>	<input type="text" value="100"/>	<input type="text" value="1"/>	<input type="text" value="5"/>


5. Selecciona el número romano correcto (1punto)

1	
3	
5	
10	

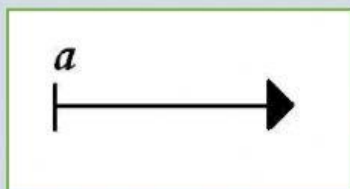
6. Selecciona la hora que marca el reloj (1punto)

7. Une cada gráfico con su respectivo nombre (1pto)

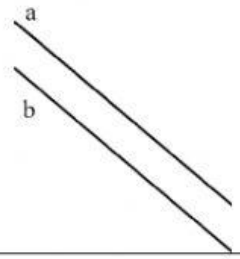



Recta

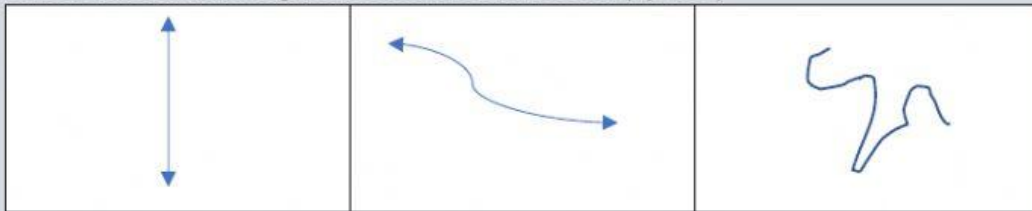


Semirrecta

8. Selecciona cómo se llama cada tipo de recta (1pto)

9. Selecciona cuál de las siguientes es una recta vertical (1punto)



FELICITACIONES POR TUS LOGROS ALCANZADOS ESTE PARCIAL  
DA CLICK EN TERMINADO Y LLENA TUS DATOS.