
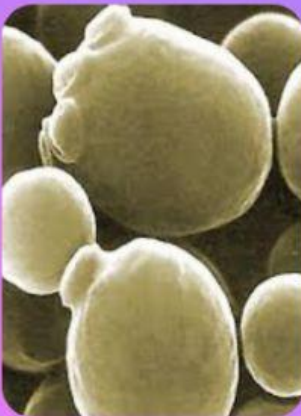
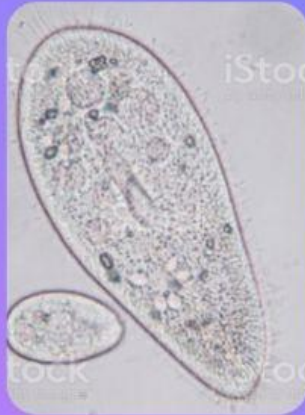


REINOS DE SERES VIVOS

- 1) Mira con atención las fotos de los siguientes seres vivos.
Selecciona para cada uno: **Nombre y Reino**



- 2) Completa el siguiente cuadro para los 5 principales Reinos de seres vivos
Cuando termines cópialo a tu cuaderno

	REINO MÓNERA	REINO PROTISTA	REINO FUNGI	REINO PLANTAE	REINO ANIMALIA
Ejemplos de seres vivos					
N° de células					
Tipo de células					
Tipo de nutrición					
Niveles de orga- nización					

- 3) **Escribe en cada frase el/los Reinos que correspondan:**

- Reinos con seres vivos unicelulares
- Único Reino con seres vivos procariotas
- Reinos con seres vivos autótrofos
- Reinos que solamente son heterótrofos
- Reinos más complejos, que tienen órganos y sistemas

- 4) **Para pensar: ¿Por qué las algas no son plantas?**
(mira el cuadro, compara los Reinos Protista y Plantae)