



Escuela Primaria Centenaria General Ignacio Zaragoza  
Ciclo escolar 2021-2022  
EVALUACIÓN MATEMÁTICAS PRIMER TRIMESTRE



1. Une con líneas cada número con la cantidad de objetos que representa:

4



8



6



2. Martín lanzó tres veces un dado y le salieron los siguientes puntos.

Encierra el número que representa los puntos que obtuvo Martín.




5

3

9

3. Marca en la Lotería el número que se forma al sumar los puntos de los dados.







4. Encierra el grupo que tiene la mayor cantidad de juguetes:



5. Tacha las monedas que necesitas para pagar un jarrito que cuesta 19 pesos.



Cuenta las rayitas que dicen cuántos animalitos viven en el zoológico y completa la tabla.

Animales	Marcas	Número
6.- 	II	2
7.- 	<del>IIII</del>	
8.- 	IIII	
9.- 	<del>IIII</del> III	

Une con una línea cada lápiz con la tira que mida lo mismo.



13. Selecciona el nombre del niño o la niña que está más alto.



Moni



Paco


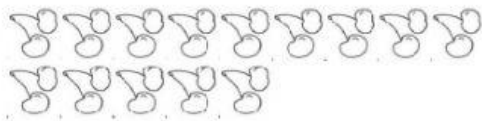


Memo



Lulú

14. Escribe en los recuadros cuántas frutas hay.



15. Escribe cuántas cuentas hay en cada collar (recuerda no contar la estrella en el primero y el corazón en la segunda)

