









สภาพยืดหยุ่น

By KruPraew



1. ให้นักเรียนเลือกวัสดุที่มีสมบัติยืดหยุ่นให้ถูกต้อง

			
ยางรัด	ดินน้ำมัน	ลูกโป่ง	อิฐ
<input type="checkbox"/>	<input type="checkbox"/>	<input type="checkbox"/>	<input type="checkbox"/>
			
ฟองน้ำ	แผ่นไม้	สปริง	ถุงพลาสติก
<input type="checkbox"/>	<input type="checkbox"/>	<input type="checkbox"/>	<input type="checkbox"/>

2. ให้นักเรียน "กดเลือก" คำตอบให้ถูกต้อง

1 ตาราง ความยาววัสดุ 3 ชนิด ก่อนแขวน ขณะแขวน และหลังนำตุ้มน้ำทรายออก

ชนิดของวัสดุ ก่อนแขวน ขณะแขวน หลังแขวน

A	10	13	12
B	10	14	14
C	10	15	10

จากข้อมูล วัสดุใด มีสภาพยืดหยุ่น

A B C

2 ข้อความด้านล่าง นำสมบัติด้านสภาพยืดหยุ่นไปใช้ประโยชน์ได้ถูกต้องหรือไม่

	ถูกต้อง	ไม่ถูกต้อง
1. ยางใช้ทำยางรัดของ	<input type="checkbox"/>	<input type="checkbox"/>
2. พลาสติกใช้ทำลูกโป่ง	<input type="checkbox"/>	<input type="checkbox"/>
3. ฟองน้ำใช้ทำเบาะโซฟา	<input type="checkbox"/>	<input type="checkbox"/>

