




# Menyelesaikan Soal Cerita Pembagian (Dengan 1 & 2 Langkah Penyelesaian)

 Nama Siswa:



Kelas:

بِسْمِ اللَّهِ الرَّحْمَنِ الرَّحِيمِ

Silakan disimak video berikut ini!

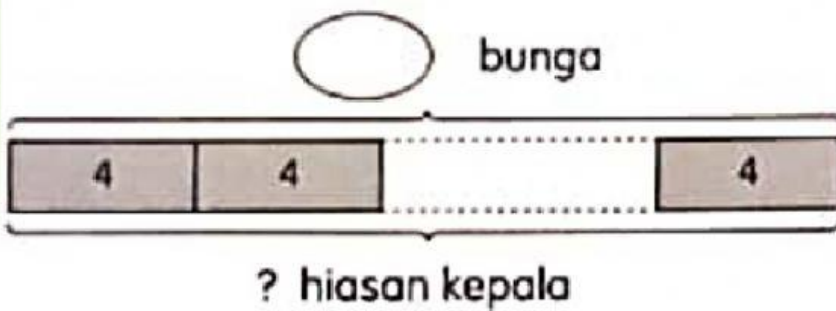
Setelah kita menyimak penjelasan dari guru dan tayangan dalam video di atas, yuk kita coba selesaikan soal pembagian di bawah ini! Tetap jaga ketelitian dalam menghitungnya yah!



Intan memiliki 728 bunga.

Dia menggunakan 4 bunga untuk membuat satu hiasan kepala.

Berapa banyak hiasan kepala yang bisa dibuat dengan seluruh bunga miliknya?


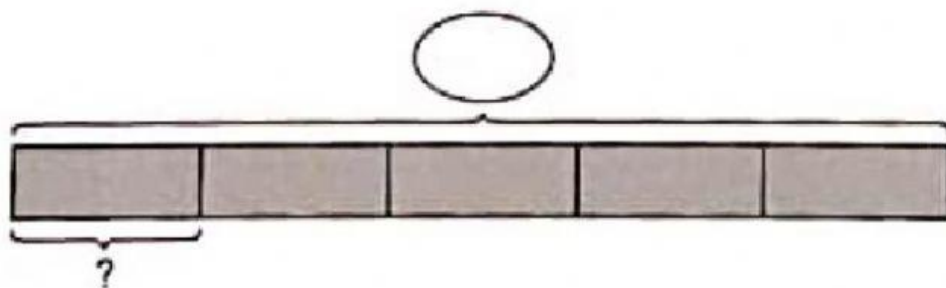


$$\underline{\hspace{2cm}} : \underline{\hspace{2cm}} = \underline{\hspace{2cm}}$$

Dia dapat membuat \_\_\_\_\_ hiasan kepala.

Melati membagikan 425 kelereng kepada 5 anak sama banyak.

Berapa banyak kelereng yang diterima setiap anak?



$$\underline{\hspace{2cm}} : \underline{\hspace{2cm}} = \underline{\hspace{2cm}}$$

Setiap anak menerima \_\_\_\_\_ kelereng.



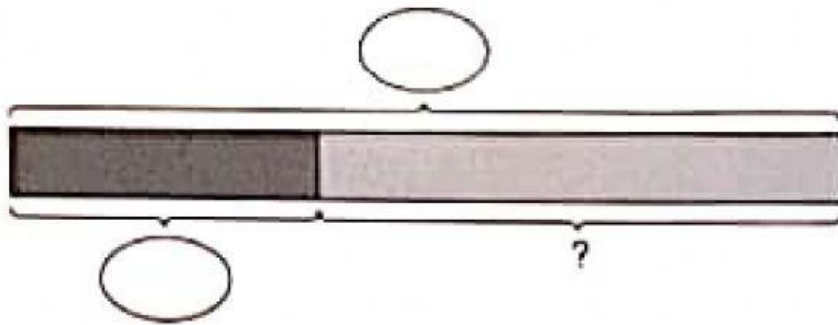
Katie membuat 643 kue.

Dia mengemas 247 kue ke dalam kotak.

Sisa kue dikemas ke dalam 6 wadah sama banyak.

- a Berapa banyak kue yang dimasukkan ke dalam wadah?
- b Berapa banyak kue yang ada di dalam setiap wadah?

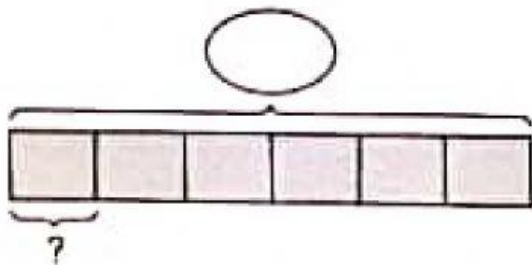
a



\_\_\_\_\_ ○ \_\_\_\_\_ = \_\_\_\_\_

\_\_\_\_\_ kue dimasukkan ke dalam wadah.

b



\_\_\_\_\_ ○ \_\_\_\_\_ = \_\_\_\_\_

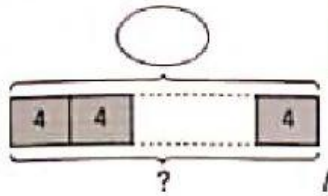
Ada \_\_\_\_\_ kue di dalam setiap wadah.



Herman mempunyai 824 kartu.

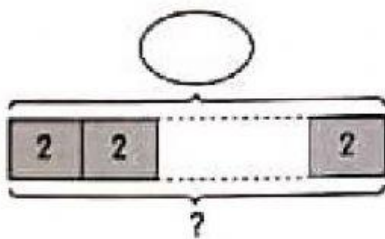
Dia mengemas kartu-kartu tersebut menjadi paket-paket yang berisi 4 kartu.

Dia memberikan 2 paket kartu kepada setiap temannya. Berapa banyak teman Herman yang menerima kartu?



$$\underline{\hspace{2cm}} \bigcirc \underline{\hspace{2cm}} = \underline{\hspace{2cm}}$$

Ada            paket kartu.



$$\underline{\hspace{2cm}} \bigcirc \underline{\hspace{2cm}} = \underline{\hspace{2cm}}$$

Ada            temannya yang menerima paket kartu.



Ponco membeli 126 pensil.

Ali membeli pensil 4 kali lebih banyak daripada Ponco.

Pensil Ali dibagikan kepada 7 anak sama banyak.

- a Berapa banyak pensil yang dibeli Ali?
- b Berapa banyak pensil yang diterima setiap anak?

a. Banyak pensil yang dibeli Ali = \_\_\_\_\_ ○ \_\_\_\_\_ = \_\_\_\_\_

b. Banyak pensil yang diterima setiap anak = \_\_\_\_\_ ○ \_\_\_\_\_ = \_\_\_\_\_

الْحَمْدُ لِلَّهِ رَبِّ الْعَالَمِينَ

