

TOÁN

Tuần 7

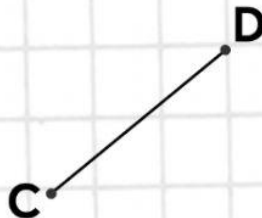


Bài 1: Kéo tên gọi ứng với mỗi hình:

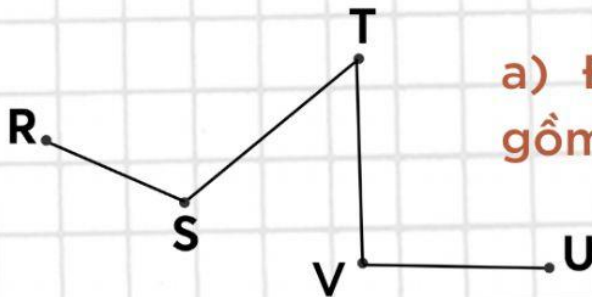
Đường thẳng

Điểm

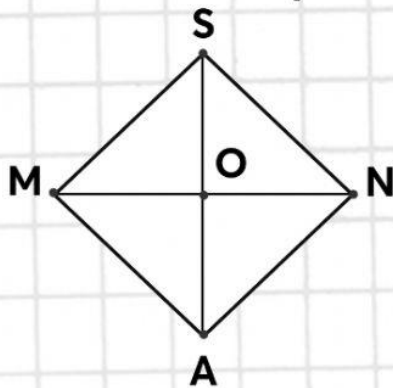
Đoạn thẳng



Bài 2: Viết vào chỗ chấm:



a) Đường gấp khúc
gồm ... đoạn thẳng.



b) 3 điểm ..., ..., ... thẳng hàng.
3 điểm ..., ..., ... thẳng hàng.



..... giờ



..... giờ



..... giờ

