

NOME:

DATA:

PROF<sup>a</sup> IRENE MINOTELLI

5º ANO:

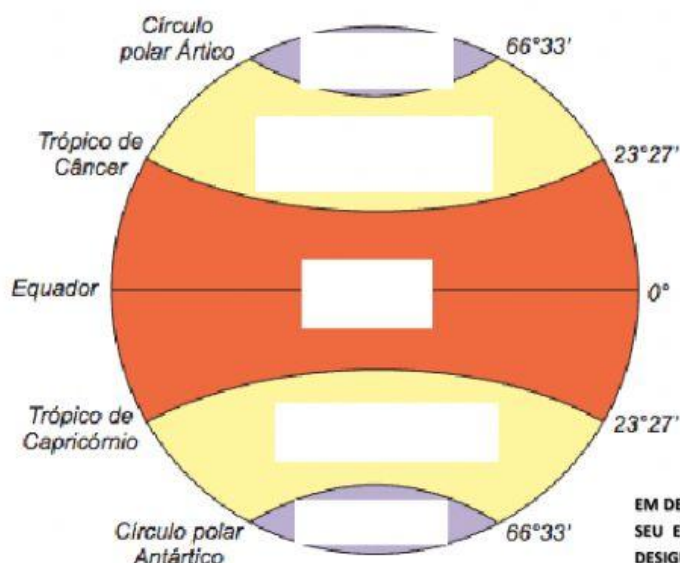
## ATIVIDADE DE GEOGRAFIA – AS ZONAS TÉRMICAS OU CLIMÁTICAS DA TERRA/ CONTINENTE E OCEANOS - PARTE II

### → AS ZONAS TÉRMICAS DA TERRA

- ASSISTA O VÍDEO EXPLICATIVO



- APÓS O VÍDEO, VAMOS VERIFICAR O QUE APRENDEU ATRAVÉS DOS 2 JOGOS ABAIXO: ( NÃO PRECISA ENVIAR IMAGEM DOS JOGOS)
- VAMOS AS QUESTÕES? PRESTE BEM ATENÇÃO ANTES DE RESPONDER. BORA LÁ!!!
  1. ARRASTE CADA UMA DAS ZONAS TÉRMICAS OU CLIMÁTICAS AO SEU RESPECTIVO LOCAL:



ZONA TROPICAL OU INTERTROPICAL

ZONA TEMPERADA SUL

ZONA POLAR SUL

ZONA TEMPERADA NORTE

ZONA POLAR NORTE

EM DECORRÊNCIA DA FORMA ESFÉRICA DA TERRA, BEM COMO DA LEVE INCLINAÇÃO DE SEU EIXO, A DISTRIBUIÇÃO DE LUZ E CALOR PELO PLANETA ACONTECE DE FORMA DESIGUAL E COM INTENSIDADE DIFERENTE. POR CONTA DESSAS DIFERENÇAS DE ILUMINAÇÃO E AQUECIMENTO, O GLOBO FOI DIVIDIDO EM **ZONAS TÉRMICAS**, TAMBÉM CHAMADAS DE **ZONAS CLIMÁTICAS**.

2. OBSERVANDO O GLOBO TERRESTRE DA QUESTÃO 1, RESPONDA:

- A. EM QUANTAS ZONAS TÉRMICAS O GLOBO TERRESTRE ESTÁ DIVIDIDO? E QUEM SÃO ELAS?
- B. QUAIS SÃO AS LINHAS IMAGINÁRIAS QUE DELIMITAM A ZONA TROPICAL DO PLANETA?
- C. QUAIS SÃO AS DUAS ZONAS TEMPERADAS DA TERRA?
- D. QUAIS LINHAS IMAGINÁRIAS DELIMITAM AS ZONAS TEMPERADAS DO PLANETA?
- E. O TERRITÓRIO BRASILEIRO ESTÁ LOCALIZADO NA ÁREA DE QUAIS ZONAS TÉRMICAS?
- F. QUAL LINHA IMAGINÁRIA CORTA HORIZONTALMENTE O CENTRO DA TERRA? EM QUE ZONA TÉRMICA ELA SE SITUA?

3. DE ACORDO COM O VÍDEO; LIGUE FAZENDO A ASSOCIAÇÃO CORRETA:

ZONA TROPICAL

REGIÃO DO PLANETA EM QUE OS RAIOS SOLARES ATINGEM A SUPERFÍCIE DE MANEIRA FORTEMENTE INCLINADA, ILUMINANDO E AQUECENDO MENOS. TRATAM-SE DAS ÁREAS MAIS FRIAS DE TODA A TERRA.

ZONAS TEMPERADAS

REGIÃO EM QUE OS RAIOS SOLARES ATINGEM A SUPERFÍCIE DE MANEIRA PERPENDICULAR, ISTO É, FORMANDO UM ÂNGULO DE 90 GRAUS, ILUMINANDO E AQUECENDO COM BOA INTENSIDADE. SÃO ÁREAS MAIS QUENTES DA TERRA.

ZONAS POLARES

REGIÃO EM QUE OS RAIOS SOLARES ATINGEM A SUPERFÍCIE DE MANEIRA POUCO MAIS INCLINADA, ILUMINANDO E AQUECENDO MENOS A SUPERFÍCIE TERRESTRE. TRATAM-SE DE ÁREAS COM TEMPERATURAS AMENAS.

→ **CONTINENTES E OCEANOS**

- ASSISTA O VÍDEO EXPLICATIVO

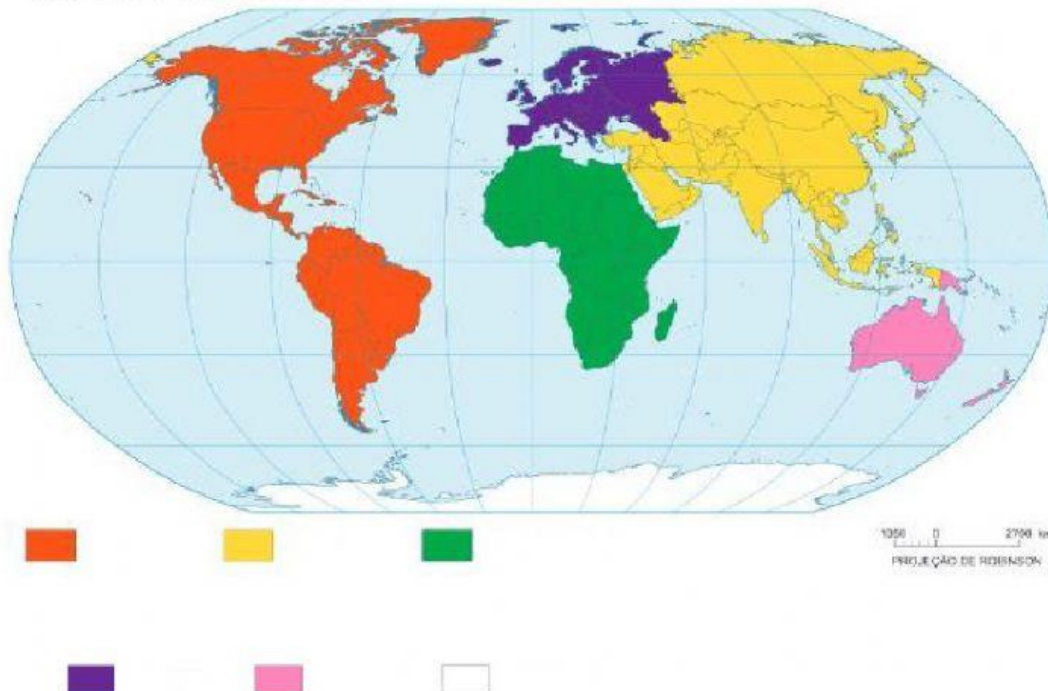


- **APÓS O VÍDEO, VAMOS VERIFICAR O QUE APRENDEU ATRAVÉS DOS 2 JOGOS ABAIXO: ( NÃO PRECISA ENVIAR IMAGEM DOS JOGOS)**

- **AGORA, É A SUA VEZ DE MOSTRAR O QUE APRENDEU. BORA LÁ!!!!**

1. **COMPLETE A LEGENDA COM OS NOMES DOS CONTINENTES DE ACORDO COM A SUA RESPECTIVA COR:**

#### Divisão dos Continentes



**AGORA, NO MESMO PLANISFÉRIO, ESCREVA O NOME DOS OCEANOS.**

2. **OBSERVANDO A DIVISÃO DOS CONTINENTES NO PLANISFÉRIO ACIMA, RESPONDA:**

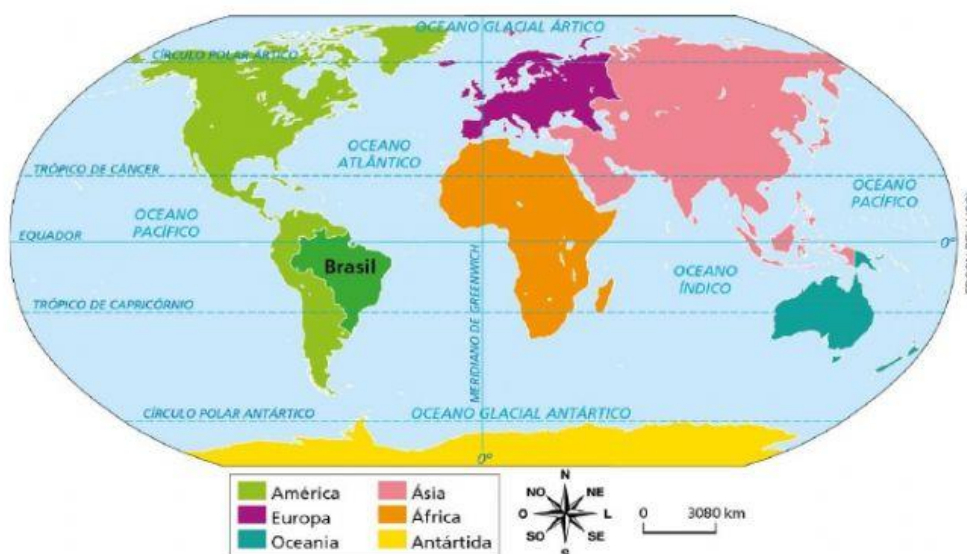
A. **EM QUAL CONTINENTE VOCÊ VIVE? E QUE COR ELE ESTÁ DEMARCADO NO PLANISFÉRIO?**

B. **QUAL É O CONTINENTE QUE OCUPA, COM A EUROPA, A MESMA PORÇÃO DE TERRA EMERSA?**

C. **QUAL OCEANO BANHA O BRASIL?**

3. **VOCÊ GANHOU NA MEGASENA E DECIDIU VIAJAR POR UM ANO, CONHECENDO OS SEIS CONTINENTES! QUAL SERIA O PRIMEIRO LUGAR QUE VOCÊ IRIA CONHECER EM CADA UM DOS CONTINENTES? PESQUISE LUGARES QUE LHE INTERESSE EM CADA CONTINENTE PARA INDICAR O LUGAR QUE VISITARÁ. NÃO ESQUEÇA DE ESCREVER TAMBÉM O NOME DO PAÍS EM QUE FICA ESTE LUGAR. VOCÊ VAI CONHECER:**

- A. NA ÁFRICA: LUGAR: PAÍS:
- B. NA AMÉRICA: LUGAR: PAÍS:
- C. NA ÁSIA: LUGAR: PAÍS:
- D. NA EUROPA: LUGAR: PAÍS:
- E. NA OCEANIA: LUGAR: PAÍS:
- F. NA ANTÁRTIDA: LUGAR: PAÍS:



4. OBSERVE O MAPA ACIMA, MARQUE COM UM X A ALTERNATIVA CORRETA SOBRE OS CONTINENTES E OCEANOS DA TERRA:

- ( ) A AMÉRICA É O CONTINENTE QUE TEM SUAS TERRAS BANHADAS PELOS OCEANOS ATLÂNTICO E ÍNDICO.
- ( ) A ÁFRICA É O CONTINENTE QUE TEM SUAS TERRAS BANHADAS PELOS OCEANOS ATLÂNTICO E PACÍFICO.
- ( ) O OCEANO QUE BANHA O TERRITÓRIO BRASILEIRO É O ATLÂNTICO.
- ( ) O OCEANO ATLÂNTICO BANHA AS TERRAS DA ÁFRICA, DA ÁSIA E DA OCEANIA.

5. OBSERVE O MAPA ACIM E MARQUE COM UM X A ALTERNATIVA INCORRETA ACERCA DOS CONTINENTES E OCEANOS DA TERRA:

- ( ) A ÁSIA É O MAIOR CONTINENTE EM EXTENSÃO TERRITORIAL.
- ( ) O BRASIL ESTÁ LOCALIZADO NO CONTINENTE AMERICANO.
- ( ) A OCEANIA É O MENOR CONTINENTE EM EXTENSÃO TERRITORIAL.
- ( ) O OCEANO GLACIAL ANTÁRTICO BANHA AS TERRAS DA EUROPA E DA ÁSIA.