


Επαναληπτικό Γεωγραφίας 1^η ενόηση

ΟΝΟΜΑ: _____ **ΗΜΕΡΟΜΗΝΙΑ:** 29.10.19

Προσπάθησε να εντοπίσεις όλους τους πλανήτες μέσα στο κρυφό λεξο. Έπειτα να τους γράψεις με σειρά απόστασης από την Ήλιο ξεκινώντας από τον κοντινότερο.

Π	Ο	Σ	Ε	Ι	Δ	Ω	Ν	Α	Σ
Ω	Υ	Ζ	Ρ	Φ	Ι	Ψ	Υ	Φ	Ψ
Β	Ρ	Δ	Μ	Τ	Α	Χ	Ρ	Ρ	Ι
Ν	Α	Ρ	Η	Σ	Σ	Ζ	Φ	Ο	Γ
Μ	Ν	Σ	Σ	Ν	Γ	Ρ	Ψ	Δ	Κ
Λ	Ο	Χ	Κ	Β	Φ	Ρ	Δ	Ι	Κ
Ν	Σ	Κ	Ρ	Ο	Ν	Ο	Σ	Τ	Ν
Χ	Ζ	Β	Κ	Γ	Ψ	Ρ	Γ	Η	Ζ



1. _____

2. _____

3. _____


4. _____

5. _____

6. _____

7. _____

8. _____



Χρωματίζω τη σωστή απάντηση.

Πλανήτες λέγονται τα 8 ουράνια σώματα που κινούνται γύρω από :

- A. τον Ήλιο Β. τον άξονά τους Γ. τον δορυφόρο

Η κίνηση αυτή ονομάζεται:

- A. ελλειπτική Β. περιστροφή Γ. περιφορά

Το σχήμα της Γης ονομάζεται :

- A. σφαιρικό Β. γεωειδές Γ. ελλειπτικό

Όταν το βόρειο ημισφαίριο έχει φθινόπωρο , το νότιο έχει:

- A. άνοιξη Β. χειμώνα Γ. άνοιξη



ΘΑΞΗ ΑΖΤΞΡΑΤΗ

Μπορείς να συμπληρώσεις με κάτι ταιριαστό;

Η Γη είναι ένα ουράνιο σώμα , το οποίο είναι λίγο _____ στους πόλους και _____ στον Ισημερινό. Η κίνησή της γύρω από τον άξονά της λέγεται _____ και διαρκεί _____. Ο άξονας αυτός , που είναι _____, δηλαδή δεν υπάρχει στην πραγματικότητα , περνάει από το _____ της Γης και ενώνει τους δύο _____ της. Μια δεύτερη κίνηση της Γης είναι αυτή γύρω από τον _____ που διαρκεί _____ και ονομάζεται _____.



Κάνω με προσοχή τις αντιστοιχίσεις;

- | | | | |
|-----------|-----------------------|-----------------------|---|
| Πλανήτης | <input type="radio"/> | <input type="radio"/> | Ουράνιο σώμα που κινείται γύρω από έναν πλανήτη |
| Δορυφόρος | <input type="radio"/> | <input type="radio"/> | Ουράνιο σώμα που κινείται γύρω από τον Ήλιο |
| Αυτόφωτο | <input type="radio"/> | <input type="radio"/> | Ουράνιο σώμα που δέχεται φως και θερμότητα από τον ήλιο |
| Ετερόφωτο | <input type="radio"/> | <input type="radio"/> | Ουράνιο σώμα με δικό του φως και θερμότητα |



Όταν οι ακτίνες του Ήλιου πέφτουν πλάγια σε έναν τόπο , τότε αυτός ο τόπος έχει



Όταν το βόρειο ημισφαίριο είναι στραμμένο προς τον Ήλιο, τότε αυτό έχει



Χειμώνα

Όταν το βόρειο ημισφαίριο είναι στραμμένο προς τον Ήλιο, τότε το νότιο έχει

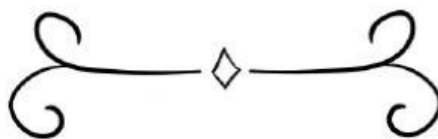


Όταν οι ακτίνες του Ήλιου πέφτουν κάθετα σε έναν τόπο , τότε αυτός ο τόπος έχει



Καλοκαίρι

Γράφω μια πληροφορία που με εντυπωσίασε σχετικά με κάποιον πλανήτη.



ΟΤΑΞΗ ΑΣΤΕΡΑΤΗ