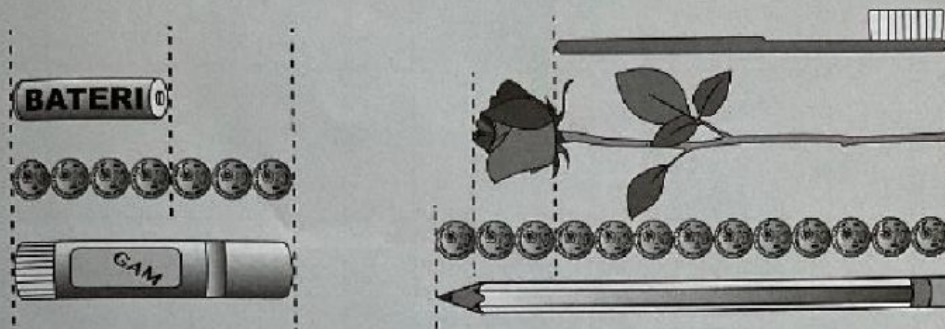
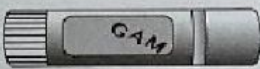

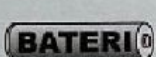









Aktiviti 3

1 Tulis panjang objek.




- a Panjang  sama dengan .
- b Panjang  sama dengan .
- c Panjang  sama dengan .
- d Panjang  sama dengan .
- e Panjang  sama dengan .

2 Bandingkan panjang objek di atas.

- a Bateri lebih daripada gam.
- b Bunga ros lebih daripada berus gigi.
- c Pensel paling daripada semua objek.

Aktiviti 4

Ukur objek menggunakan jubin. Isi tempat kosong.



- a Tinggi lampu sama dengan .
- b Tinggi rak buku sama dengan .
- c Tinggi meja sama dengan .
- d Tinggi pasu sama dengan .
- e sama tinggi dengan .
- f paling rendah.
- g paling tinggi.