
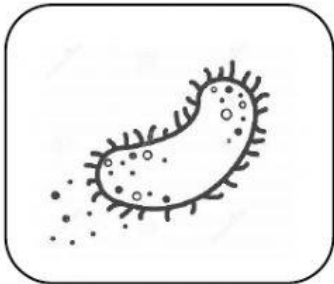


SAINS TAHUN 6 : MIKROORGANISMA

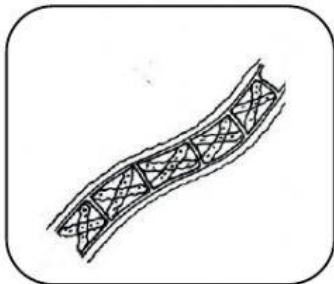
Padankan gambarajah dengan jenis mikroorganisma



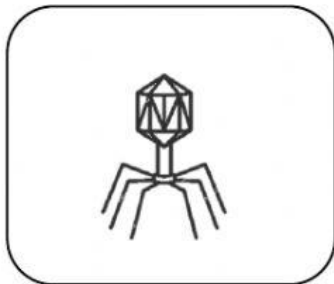
VIRUS



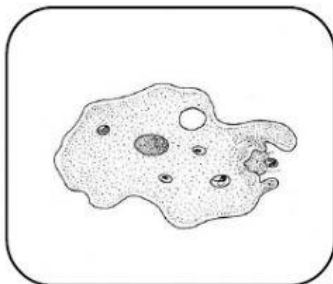
ALGA



FUNGI



PROTOZOA



BAKTERIA

SAINS TAHUN 6 : MIKROORGANISMA

Pilih jawapan yang betul

PENERANGAN	MIKROORGANISMA
<ul style="list-style-type: none">• Mempunyai sifat seperti tumbuhan dan menjalankan proses fotosintesis• Contoh : fitoplankton dan spirogyra	
<ul style="list-style-type: none">• Mikroorganisma yang terbesar• Boleh dilihat menggunakan mata kasar dan ada yang hanya boleh dilihat menggunakan mikroskop• Contoh : kulat, yis, mukor dan penicilium	
<ul style="list-style-type: none">• Hidup di habitat yang berair seperti tasik, sungai dan kolam• Contoh : amoeba, paramecium	
<ul style="list-style-type: none">• Mikroorganisma yang paling kecil• Hanya boleh dilihat menggunakan mikroskop elektron.• Contoh : HIV, Influenza, Corona	
<ul style="list-style-type: none">• Wujud dalam pelbagai bentuk saiz dan warna• Terdapat dalam pelbagai persekitaran	