


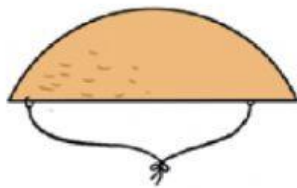
Une cada dibujo con su nombre.

Segmento
circular

Semicírculo

Corona
circular

Sector
circular



Escribe cada nombre en su lugar.

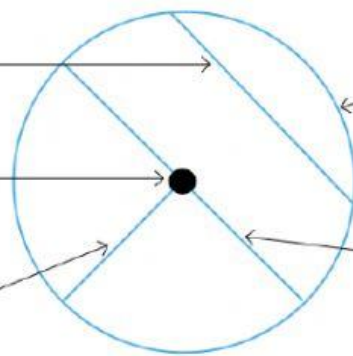
Arco

Centro

Diámetro

Radio

Cuerda



Realiza estas multiplicaciones:

98×6		

89×7		

Calcula estas multiplicaciones con centenas:

157×6		

134×7		

Realiza estas multiplicaciones:

98 × 6		

89 × 7		

Calcula estas multiplicaciones con centenas:

157 × 6		

134 × 7		

Averigua el triple y la tercera parte.

El triple de 6 →

La tercera parte de 6 →

El triple de 10 →

La tercera parte de 60 →

Completa la siguiente tabla con los caramelos que le has repartido a cada uno:

PERSONAS PARA REPARTIR	CARAMELOS QUE REPARTO A CADA UNO	CARAMELOS QUE TENÍA
2	× <input type="text"/>	= 18
3	× <input type="text"/>	= 18

PERSONAS PARA REPARTIR	CARAMELOS QUE REPARTO A CADA UNO	CARAMELOS QUE TENÍA
4	× <input type="text"/>	= 20
5	× <input type="text"/>	= 20