




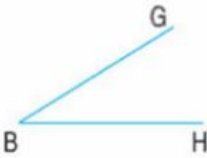
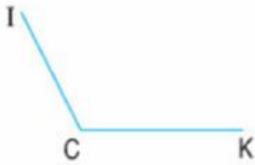

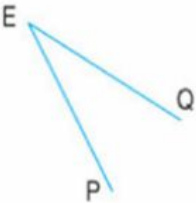

Teacher Tu

HOMWORK

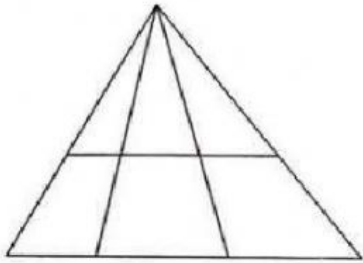
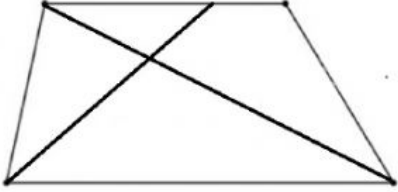
Review: Right angles. Non-right angles (Ôn tập: Góc vuông. Góc không vuông)

Name: Class


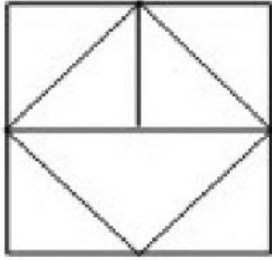
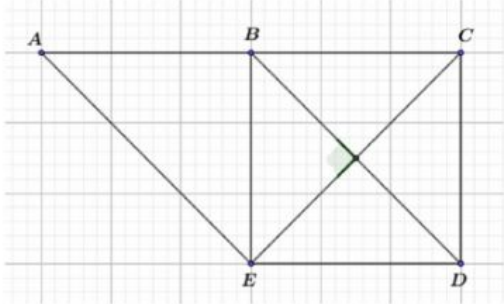
Task 1: Điền Đ hoặc S vào ô trống:

		
		
<p>Góc đỉnh A; cạnh AD, AE là góc vuông</p> <p>Góc đỉnh B; cạnh BG, BH là góc vuông</p> <p>Góc đỉnh C; cạnh CI, CK là góc vuông</p>	<p>Góc đỉnh D; cạnh DM, DN là góc không vuông</p> <p>Góc đỉnh E; cạnh EQ, EP là góc không vuông</p> <p>Góc đỉnh G; cạnh GX, GY là góc không vuông</p>	

Task 2: Fill in the blanks (Điền số thích hợp vào chỗ trống)

<p>Hình bên có ... hình tam giác.</p> <p>Hình bên có ... hình tứ giác.</p>	
<p>Hình bên có ... hình tam giác.</p> <p>Hình bên có ... hình tứ giác.</p>	

Task 3: Fill in the blanks (Điền số thích hợp vào chỗ trống)

<p>Hình bên có góc vuông.</p>	
<p>Hình bên có góc vuông.</p>	
<p>Hình bên có góc vuông</p>	
<p>Hình bên có góc không vuông</p>	