

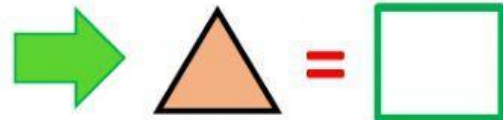



"SEMANA MATEMÁTICA"

"CONCURSO DE ACERTIJOS MATEMÁTICOS"

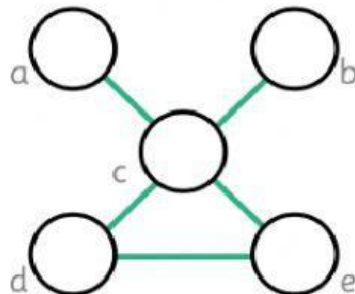
❖ Observa atentamente cada imagen y escribe la respuesta en el espacio designado.

1)




2)

Coloca estos números 1,4,5,2,6 para que todas las líneas sumen 11.



3)

CALCULA:

$$\begin{aligned} 1 &= 6 \\ 2 &= 12 \\ 3 &= 36 \\ 4 &= ? \end{aligned}$$


$4 = \square$

❖ Lee atentamente y escribe tu respuesta

acertijos

¿Cuántas moscas vuelan si son tres medias moscas más mosca y media?



Indagareo Educativos.com

16

