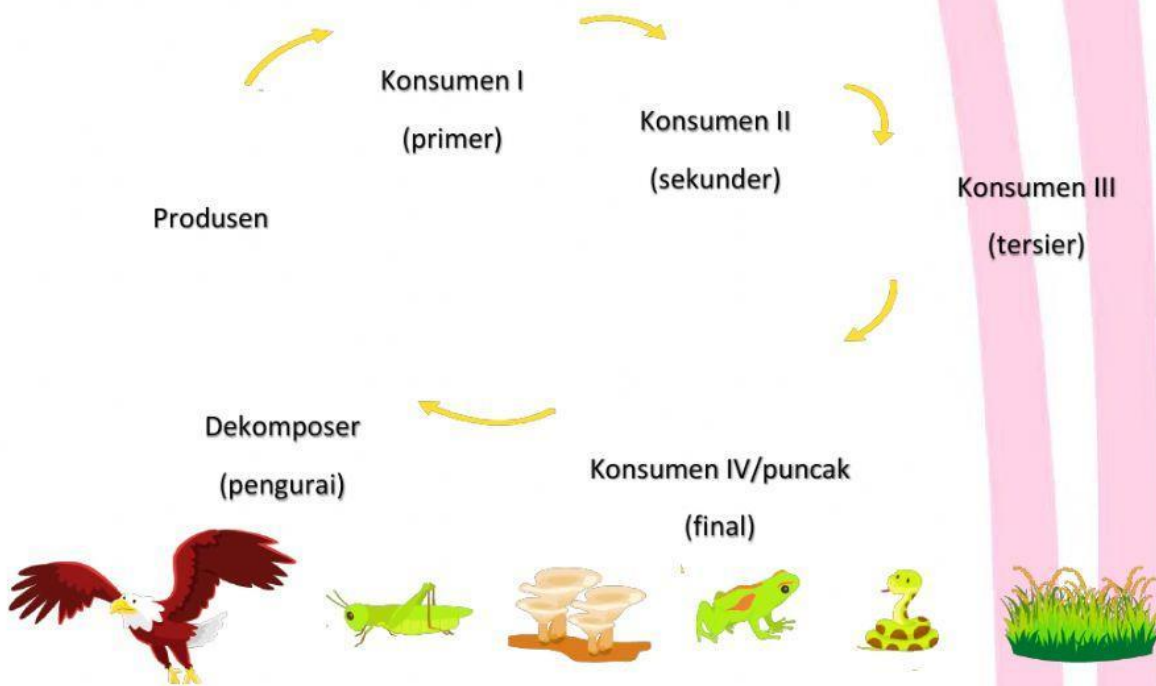
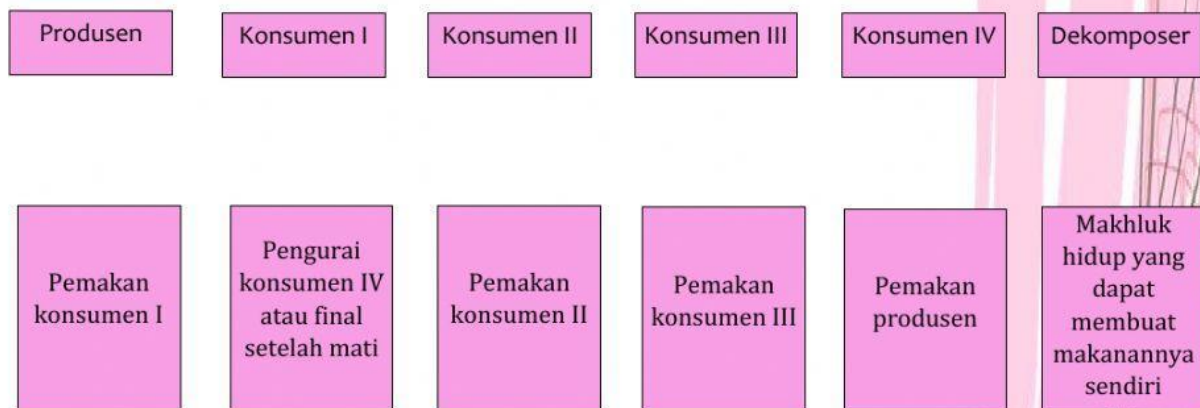


Tempatkan gambar di bawah sesuai kedudukannya dalam rantai makanan dengan cara menarik gambar tersebut, setelah itu hubungkan kedudukan dengan fungsinya .

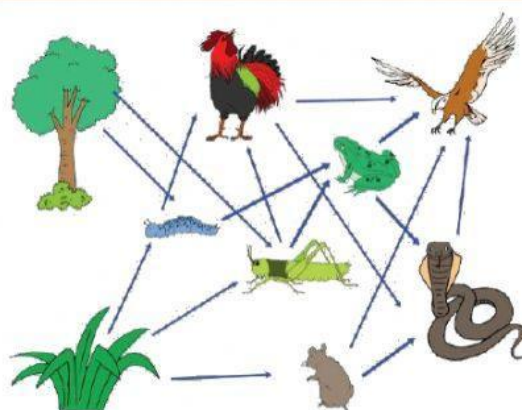


Rantai Makanan

(Hubungan makan dan dimakan antara produsen dan konsumen)



Perhatikan jaring-jaring makanan berikut. Pilihlah jawaban yang sesuai.



Jaring-Jaring Makanan

(Gabungan beberapa rantai makanan)

1. Manakah produsen?
2. Manakah konsumen primer?
3. Manakah konsumen sekunder?
4. Manakah konsumen tersier?
5. Manakah konsumen final?
6. Apakah kedudukan katak itu?