

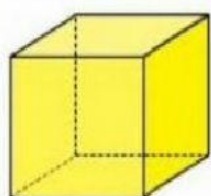


EVALUACIÓN DE GEOMETRÍA

CUARTO PERIODO – GRADO SEGUNDO

NOMBRE: _____

1. Arrastre a donde corresponda el nombre de cada sólido que se presenta a continuación.




Esfera

Cubo

Sólido rectangular

Escribe el área de las siguientes figuras:




Area: ____

2.



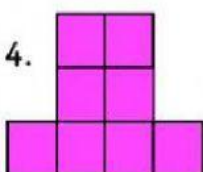
Area: ____

3.




Area: ____

4.



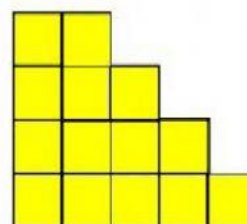
Area: ____

5.



Area: ____

6.



Area: ____

RECUERDA



¿CUÁNTOS LITROS SON? Rodea y cuenta:



Son _____ litros



Son _____ litros

Marca según corresponda:

¿QUIÉN PESA MENOS?



¿QUIÉN PESA MENOS?

