

REPASO DEL TEMA 5 “LA TIERRA, UN PLANETA ÚNICO”

1 ¿Qué elementos forman el sistema solar?

2 Explica qué son las estrellas.


3 Completa la tabla.

Planetas	
Más cercanos al Sol	Más alejados del Sol

4 Enumera tres características de la Tierra.

5 Escribe el nombre de las capas de la Tierra.


hidrosfera
geosfera
atmósfera




6 Completa las oraciones.

- La hidrosfera agrupa _____
- La geosfera es _____

7 Escribe a qué fase de la Luna corresponde cada dibujo.







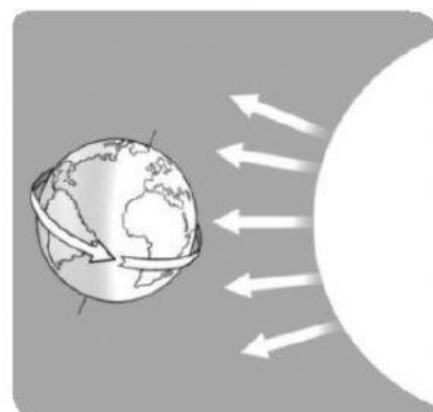


8 Observa el dibujo y responde.

- ¿Qué movimiento de la Tierra representa?

- ¿Cuánto tarda en dar una vuelta?

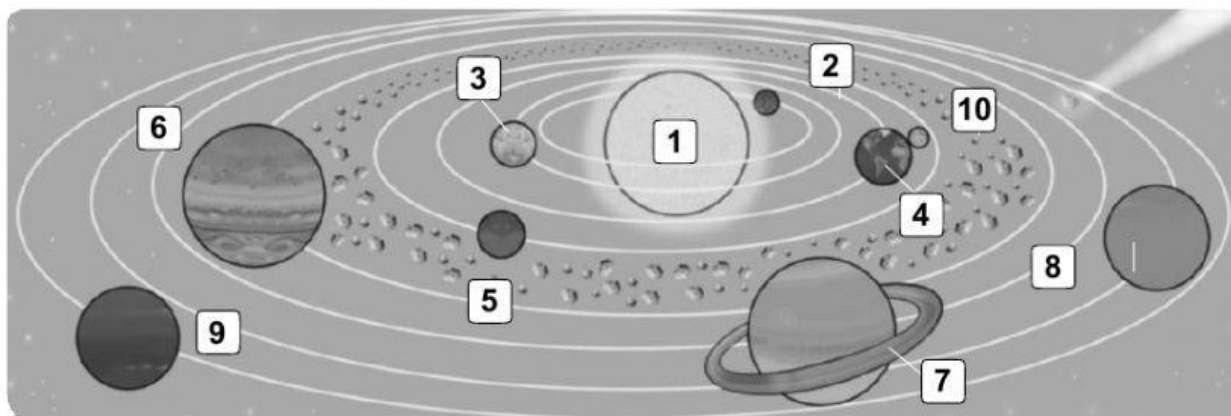
- ¿Qué origina este movimiento?



9 ¿Qué otro movimiento realiza la Tierra? Explica en qué consiste.

10 Enumera las estaciones del año y explica por qué se producen.

11 Escribe a qué astro corresponde cada número en el dibujo.



1. _____
2. _____
3. _____
4. _____
5. _____

6. _____
7. _____
8. _____
9. _____
10. _____

12 Describe cómo es el planeta Tierra.

13 Explica la diferencia entre un planeta y un satélite.

14 Si la Luna no tiene luz propia, ¿por qué la vemos brillante?

15 ¿Por qué cuando es de día en una parte de la Tierra es de noche en la otra?

16 ¿Por qué se producen las estaciones del año?

17 Responda las preguntas.

- ¿En qué capa de la Tierra se forman las nubes?

- ¿Qué capa está formada por rocas y minerales?
