

Lembar Kerja Peserta Didik

Tema 3

Kelas 5
Semester 1

SDN BAWANGAN II KEC.PLOSO



LEMBAR KERJA PESERTA DIDIK (LKPD)

NAMA :

NO. ABSEN :

PILIH SALAH SATU JAWABAN YANG TEPAT a,b,c atau d !

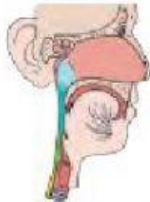
1. Iklan yang ditayangkan di televisi dan iklan yang diperdengarkan di radio termasuk jenis iklan ...
 - a. Media cetak
 - b. Media elektronik
 - c. Media listrik
 - d. Media video
2. Pada sore hari Bagas membaca koran di depan rumahnya, ia melihat iklan makanan yang disertai gambar yang menggugah selera. Iklan yang dilihat bagas tersebut termasuk jenis iklan
 - a. Media cetak
 - b. Media tulisan
 - c. Media gambar
 - d. Media buku
3. Perbedaan antara iklan media cetak dan elektronik antara lain adalah
 - a. Iklan media cetak terdapat gambar yang menarik sedangkan iklan media elektronik tidak
 - b. Iklan media cetak hanya berisi tulisan sedangkan iklan media elektronik berisi tulisan dan gambar
 - c. Iklan media elektronik bisa berisi sebuah video sedangkan iklan media cetak tidak bisa
 - d. Iklan media elektronik ditampilkan di surat kabar sedangkan iklan media cetak ditampilkan di televisi
4. Persamaan antara iklan media cetak dan elektronik bisa kita jumpai dalam penggunaan bahasa dalam iklannya. Yaitu menggunakan
 - a. Bahasa yang lucu dan memaksa
 - b. Bahasa yang mahal dan mewah
 - c. Bahasa yang jelas dan menarik
 - d. Bahasa yang keren dan gaul
5. Iklan pada media elektronik banyak yang dibuat dengan sangat kreatif dan menarik. Berikut ini contoh hal menarik yang ada dalam iklan media elektronik
 - a. Iklan di radio yang bernada mengancam
 - b. Iklan di internet dengan waktu yang singkat
 - c. Iklan di televisi dengan menampilkan tarian daerah
 - d. Iklan di aplikasi gawai yang tampil setiap saat



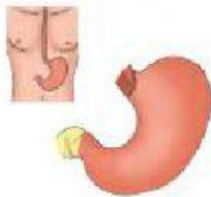
Jodohkan gambar sistem organ pencernaan dan fungsinya



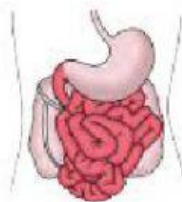
Sebagai penghasil pepsinogen dan tempat menyimpan makanan sementara.



Untuk mengabsorpsi air dan mineral, tempat pembentukan vitamin K (dengan bantuan bakteri Escherichia coli),serta melakukan gerak peristaltik untuk mendorong tinja menuju anus.



Tempat untuk menghancurkan makanan sehingga ukurannya cukup lebih kecil untuk dapat di telan ke dalam perut.



Sebagai saluran untuk memindahkan makanan dari mulut ke lambung.



Tempat terjadinya proses kimiawi dan penyerapan sari-sari makanan.

Kelompokkan nama tarian tradisional di bawah ini dengan cara menariknya ke dalam kotak yang telah di sediakan !

Tari Remo

Tari Saman

Tari Topeng

Tari Kecak

Tari Piring

Tari Serampang 12

Tari Serimpi

Tari Jaipong

Sumatera Utara



Jawa Timur



Betawi



Aceh



Jawa Tengah



Bali



Sumatera Barat



Jawa Barat

