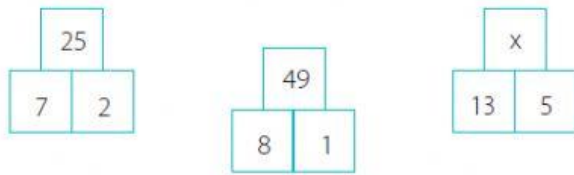


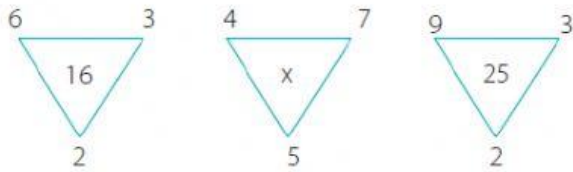


1. Calcula el valor de "x" en la siguiente distribución.



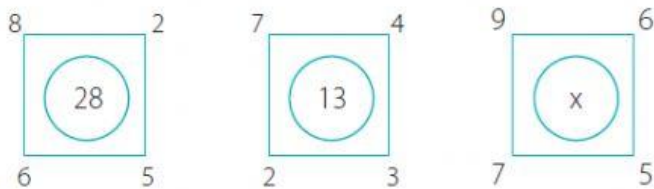
- a. 65    b. 36    c. 18    d. 81    e. 64

2. Calcula el valor de "x" en la siguiente distribución.



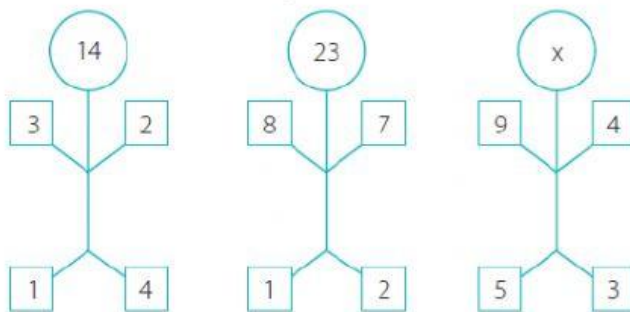
- a. 49    b. 24    c. 64    d. 33    e. 23

3. Calcula el valor de "x" en la siguiente distribución.



- a. 12    b. 4    c. 23    d. 87    e. 3

4. Calcula el valor de "x" en la siguiente distribución.



- a. 17    b. 47    c. 27    d. 57    e. 37