
























Pictogramas

Usa tu

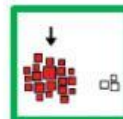


calculadora

 = 3 personas

EQUIPOS	PERSONAS	TOTAL
Equipo A 	   <div>3 3 3</div>	<div>3 × 3 = </div> <div> Personas</div>
Equipo B 	    <div>3 3 3 3</div>	<div> × = </div> <div> Personas</div>
Equipo C 	  <div>3 3</div>	<div> × = </div> <div> Personas</div>
Equipo D 	      <div>3 3 3 3 3 3</div>	<div> × = </div> <div> Personas</div>

¿Qué equipo tiene más



personas?



Equipo A



Equipo B



Equipo C



Equipo D