

## UNIDAD EDUCATIVA PARTICULAR "AMAZONAS"

**Sinónimo de excelencia académica**  
**Teléfono: 062830143**

Asignatura: Física

Profesor: Ing. Wilson Reyes

Curso: 2 BGU

Tema: Fuerza Gravitacional y leyes de Kepler

2do.Parcial

### Trabajo en clase

1er. Quimestre


NOMBRE DEL ESTUDIANTE

FECHA:

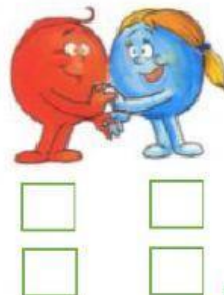
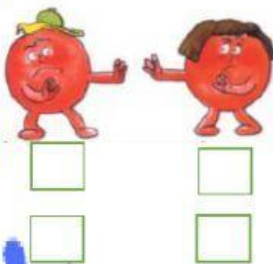
1. Seleccione una V, si la expresión es verdadera y una F si es falsa:

a) Los cuerpos cargados eléctricamente interactúan mediante la fuerza eléctrica ( )... Lo de indica cargas de signo contrario se repelen ( ) Lo de indica que cargas de signo contrario se atraen ( )

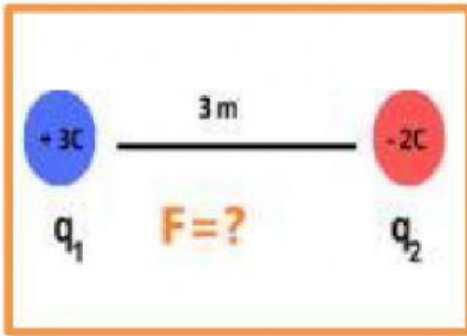
2. Observe las imágenes, luego conteste de que ley se trata:



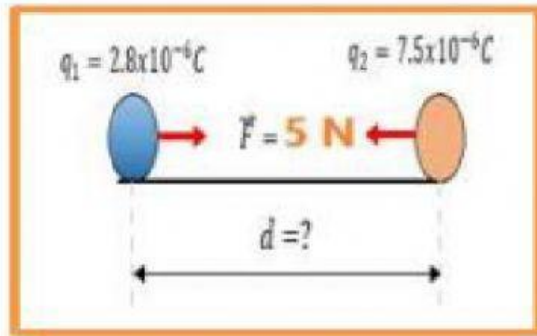
3. Escriba debajo de cada imagen, que cargas se repelen o atraen según corresponda:



4. Escriba la respuesta según corresponda



N



m