




Lembar Kerja Peserta Didik

MATEMATIKA - KELAS 6

Hari/ Tanggal : Jum'at, 29 Oktober 2021
Tujuan : Mengetahui unsur-unsur bangun ruang
Materi : Unsur Bangun Ruang
Kegiatan : Menyimak video pembelajaran dan Latihan soal

1

Simak video penjelasan berikut ini!



2

**Kerjakan latihan soal di bawah ini
sesuai perintah!**

Simpan gambar "Limas Segi Empat" disini

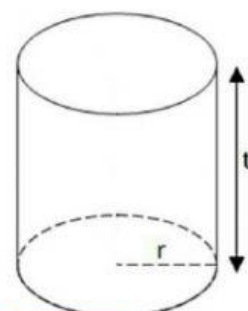
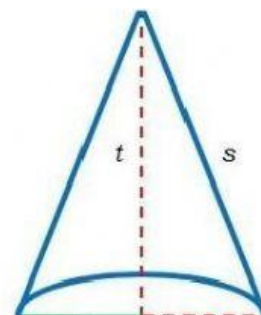
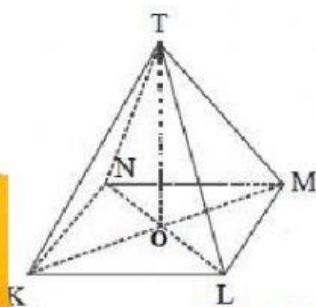


Bangun ini memiliki sisi sebanyak buah
Bagian sisi alasnya berbentuk
Sementara sisi tegaknya berbentuk
Bangun ini memiliki rusuk sebanyak buah
Bangun ini memiliki titik sudut sebanyak buah

Simpan gambar "Prisma Segi Tiga" disini



Bangun ini memiliki sisi sebanyak buah
Bagian sisi alas dan atasnya berbentuk
Sementara sisi tegaknya berbentuk
Bangun ini memiliki rusuk sebanyak buah
Bangun ini memiliki titik sudut sebanyak buah



Simpan gambar "Bola" disini



Bangun ini memiliki sisi lengkung sebanyak

Bangun ini rusuk

Bangun ini titik sudut

Simpan gambar "Kerucut" disini



Bangun ini memiliki sisi alas berbentuk

Bangun ini memiliki rusuk lengkung sebanyak

Bangun ini memiliki sisi lengkung yang disebut juga sebagai kerucut

Simpan gambar "Tabung" disini



Bangun ini memiliki sisi alas dan tutup berbentuk

Bangun ini memiliki rusuk lengkung sebanyak

Bangun ini memiliki sisi lengkung yang disebut juga tabung

Bangun ini titik sudut

